

C1

ವರ್ಷನ್ ಸಂಕೇತ

ಸ್ಪರ್ಧಾತ್ಮಕ ಪರೀಕ್ಷೆ - 2026

ಅಪರಾಧ : ಪತ್ರಿಕೆ-2

ಒಟ್ಟು ಅವಧಿ (ಪರೀಕ್ಷಾ ಕೇಂದ್ರ ಪ್ರವೇಶ ಸೇರಿ) : 150 ನಿಮಿಷಗಳು

ಉತ್ತರಿಸಲು ಇರುವ ಗರಿಷ್ಠ ಅವಧಿ : 120 ನಿಮಿಷಗಳು

ಸಮಯ : ಮಧ್ಯಾಹ್ನ 2.30 ರಿಂದ ಸಂಜೆ 4.30 ರವರೆಗೆ

ಒಟ್ಟು ಪ್ರಶ್ನೆಗಳು : 100

ಗರಿಷ್ಠ ಅಂಕಗಳು : 100

ವಿಷಯ : ಕನ್ನಡ, ಇಂಗ್ಲೀಷ್ & ಕಂಪ್ಯೂಟರ್ ಜ್ಞಾನ

ನಿಮ್ಮ ರಿಜಿಸ್ಟರ್ ನಂಬರ್ ಬರೆಯಿರಿ

ಕ್ರಮ

ಸಂಖ್ಯೆ :

244051

ವಿಷಯ
ಸಂಕೇತ

KFRA11126

ಅಭ್ಯರ್ಥಿಗಳಿಗೆ ಸೂಚನೆಗಳು

- ಮಾಡಿ:
1. ಪ್ರವೇಶ ಪತ್ರದಲ್ಲಿದ್ದಂತೆ ನಿಮ್ಮ ರಿಜಿಸ್ಟರ್ ಸಂಖ್ಯೆ ಮತ್ತು ಹೆಸರನ್ನು ಓ.ಎಂ.ಆರ್. ಉತ್ತರ ಪತ್ರಿಕೆಯಲ್ಲಿ ಬರೆದಿರುವುದನ್ನು ವಿಚಿತ ಪಡಿಸಿಕೊಳ್ಳಿ ಮತ್ತು ವ್ಯತ್ಯಾಸವಿದ್ದಲ್ಲಿ ಕೊಠಡಿ ಮೇಲ್ವಿಚಾರಕರಿಗೆ ತಿಳಿಸಿ.
 2. ಕೊಠಡಿ ಮೇಲ್ವಿಚಾರಕರು ಪ್ರಶ್ನೆಪತ್ರಿಕೆಯನ್ನು ಮತ್ತು ಓ.ಎಂ.ಆರ್. ಉತ್ತರ ಪತ್ರಿಕೆಯನ್ನು ನಿಮಗೆ 2ನೇ ಬೆಲ್ ನಂತರ ಕೊಡುತ್ತಾರೆ.
 3. ಅಭ್ಯರ್ಥಿಗಳು ಈ ಪ್ರಶ್ನೆ ಪತ್ರಿಕೆಯಲ್ಲಿರುವ ವರ್ಷನ್ ಕೋಡ್ ಅನ್ನು, ನಿಮಗೆ ನೀಡಲಾದ ಓ.ಎಂ.ಆರ್. ಉತ್ತರ ಹಾಳೆಯ ನಿಗದಿತ ಜಾಗದಲ್ಲಿ ಸ್ಪಷ್ಟವಾಗಿ ಬರೆದು ಸಂಬಂಧಿಸಿದ ವ್ಯಕ್ತವನ್ನು ಶೇಡ್ ಮಾಡುವುದು.
 4. ಈ ಪ್ರಶ್ನೆ ಪತ್ರಿಕೆಯಲ್ಲಿನ ವರ್ಷನ್ ಕೋಡ್ ಮತ್ತು ಕ್ರಮ ಸಂಖ್ಯೆಯನ್ನು ನಾಮಿನಲ್ ರೋಲ್‌ನಲ್ಲಿ ಯಾವುದೇ ತಪ್ಪಿಲ್ಲದಂತೆ ನಮೂದಿಸಬೇಕು.
 5. ಓ.ಎಂ.ಆರ್. ಉತ್ತರ ಪತ್ರಿಕೆಯ ಕೆಳಭಾಗದ ನಿಗದಿತ ಜಾಗದಲ್ಲಿ ಕಡ್ಡಾಯವಾಗಿ ಸಹಿ ಮಾಡಬೇಕು.

ಮಾಡಬೇಡಿ:

- ಓ.ಎಂ.ಆರ್. ಉತ್ತರ ಪತ್ರಿಕೆಯಲ್ಲಿ ಮುದ್ರಿತವಾಗಿರುವ ಟೈಮಿಂಗ್ & ಮಾರ್ಕನ್ನು ತಿದ್ದಬಾರದು / ಹಾಳುಮಾಡಬಾರದು / ಅಳಿಸಬಾರದು.

ಅಭ್ಯರ್ಥಿಗಳಿಗೆ ಪ್ರಮುಖ ಸೂಚನೆಗಳು

1. ಪ್ರಶ್ನೆಗಳಲ್ಲಿ ಬಳಸಿರುವ signs and symbols ಗಳನ್ನು, ಬೇರೆ ರೀತಿಯಲ್ಲಿ ಹೇಳದ ಹೊರತು, ನಿಗದಿತ ಪಠ್ಯಪುಸ್ತಕದಲ್ಲಿನ ಅರ್ಥವನ್ನು ಪರಿಗಣಿಸಬೇಕು.
2. ಪ್ರಶ್ನೆಪತ್ರಿಕೆಯಲ್ಲಿ ಒಟ್ಟು 100 ಪ್ರಶ್ನೆಗಳಿದ್ದು, ಓ.ಎಂ.ಆರ್. ಉತ್ತರ ಪತ್ರಿಕೆಯಲ್ಲಿ ಪ್ರತಿಯೊಂದು ಪ್ರಶ್ನೆಗೂ ಐದು ಆಯ್ಕೆಗಳು/ ವ್ಯತ್ಯಾಸವನ್ನು ನೀಡಲಾಗಿದ್ದು, ಮೊದಲ ನಾಲ್ಕು ಆಯ್ಕೆಗಳು/ ವ್ಯತ್ಯಾಸಗಳು 1, 2, 3 ಮತ್ತು 4 ಸೂಕ್ತ ಉತ್ತರವನ್ನು ಶೇಡ್ ಮಾಡಲು ಮತ್ತು ಆ ಪ್ರಶ್ನೆಯನ್ನು ಉತ್ತರಿಸದಿದ್ದಲ್ಲಿ 5 ನೇ ಆಯ್ಕೆ / ವ್ಯತ್ಯಾಸ 5 ಅನ್ನು ಶೇಡ್ ಮಾಡಲು ತಿಳಿಸಿದೆ.
3. 3ನೇ ಬೆಲ್ ನಂತರ ಈ ಪ್ರಶ್ನೆ ಪತ್ರಿಕೆಯ ಬಲಭಾಗದಲ್ಲಿರುವ ಸೀಲನ್ನು ತೆಗೆಯುವುದು ಹಾಗೂ ಯಾವುದೇ ಪುಟಗಳು ಮುದ್ರಿತವಾಗಿಲ್ಲದಿರುವುದು, ಯಾವುದೇ ಪುಟಗಳು ಹರಿದು ಹೋಗಿರುವುದು, ಇಲ್ಲವೇ ಹಾಳಾಗಿರುವುದು ಕಂಡುಬಂದಲ್ಲಿ ಅಥವಾ ಯಾವುದೇ ಅಕ್ಷರಗಳು ಬಿಟ್ಟುಹೋಗಿದ್ದಲ್ಲಿ ಪರೀಕ್ಷೆ ಪ್ರಾರಂಭವಾದ ಐದು (05) ನಿಮಿಷಗಳೊಳಗೆ ಸಂಪೂರ್ಣ ಪ್ರಶ್ನೆಪತ್ರಿಕೆಯನ್ನು ಬದಲಾಯಿಸಿಕೊಳ್ಳುವುದು. ನಂತರವೇ ಪ್ರತಿಯೊಂದು ಪ್ರಶ್ನೆಗಳನ್ನು ಎಚ್ಚರಿಕೆಯಿಂದ ಓದಿ ಓ.ಎಂ.ಆರ್. ಉತ್ತರ ಪತ್ರಿಕೆಯಲ್ಲಿ ಉತ್ತರಿಸಲು ಪ್ರಾರಂಭಿಸುವುದು.
4. ಪ್ರಶ್ನೆಪತ್ರಿಕೆಯಲ್ಲಿನ ಪ್ರಶ್ನೆಗೆ ಅನುಗುಣವಾಗಿರುವ ಸರಿ ಉತ್ತರವನ್ನು ಓ.ಎಂ.ಆರ್. ಉತ್ತರ ಪತ್ರಿಕೆಯಲ್ಲಿ ಅದೇ ಪ್ರಶ್ನೆ ಸಂಖ್ಯೆಯ ಮುಂದೆ ನೀಡಿರುವ ಸಂಬಂಧಿಸಿದ ವ್ಯಕ್ತವನ್ನು ನೀಡಿ ಅಥವಾ ಕಪ್ಪು ಬಾಲ್‌ಪಾಯಿಂಟ್ ಪೆನ್‌ನಿಂದ ಸಂಪೂರ್ಣವಾಗಿ ತುಂಬುವುದು.

ಸರಿಯಾದ ಉತ್ತರಿಸುವ ಕ್ರಮ CORRECT ANSWERING METHOD	ತಪ್ಪು ಕ್ರಮಗಳು WRONG METHODS														
① ● ③ ④ ⑤	⊗	②	③	④	⑤	①	②	③	④	⑤	①	②	③	④	⑤
① ● ③ ④ ⑤	①	●	●	④	⑤	①	②	③	④	⑤	①	②	③	④	⑤
① ● ③ ④ ⑤	①	②	③	④	⑤	①	②	③	④	⑤	①	②	③	④	⑤

5. ಓ.ಎಂ.ಆರ್. ಉತ್ತರ ಪತ್ರಿಕೆಯನ್ನು ಸ್ಕ್ಯಾನ್ ಮಾಡುವ ಸ್ಕ್ಯಾನರ್ ಬಹಳ ಸೂಕ್ಷ್ಮವಾಗಿದ್ದು ಸಣ್ಣ ಗುರುತನ್ನು ಸಹ ದಾಖಲಿಸುತ್ತದೆ. ಆದ್ದರಿಂದ ಓ.ಎಂ.ಆರ್. ಉತ್ತರ ಪತ್ರಿಕೆಯಲ್ಲಿ ಉತ್ತರಿಸುವಾಗ ಎಚ್ಚರಿಕೆ ವಹಿಸಿ.
 6. ಪ್ರಶ್ನೆಪತ್ರಿಕೆಯಲ್ಲಿ ಕೊಟ್ಟಿರುವ ಖಾಲಿ ಜಾಗವನ್ನು ಕಚ್ಚಾ ಕೆಲಸಕ್ಕೆ ಉಪಯೋಗಿಸಿ, ಓ.ಎಂ.ಆರ್. ಉತ್ತರಪತ್ರಿಕೆಯನ್ನು ಇದಕ್ಕೆ ಉಪಯೋಗಿಸಬೇಡಿ.
 7. ಕೊನೆಯ ಬೆಲ್ ಆದ ನಂತರ ಉತ್ತರಿಸುವುದನ್ನು ನಿಲ್ಲಿಸಿ, ಓ.ಎಂ.ಆರ್. ಉತ್ತರ ಪತ್ರಿಕೆಯನ್ನು ಕೊಠಡಿ ಮೇಲ್ವಿಚಾರಕರಿಗೆ ಯಥಾಸ್ಥಿತಿಯಲ್ಲಿ ನೀಡಿ.
 8. ಕೊಠಡಿ ಮೇಲ್ವಿಚಾರಕರು ಓ.ಎಂ.ಆರ್. ಮೇಲ್ಭಾಗದ ಹಾಳೆಯನ್ನು ಪ್ರತ್ಯೇಕಿಸಿ (ಕಚೇರಿ ಪ್ರತಿ) ತಮ್ಮ ವರದಿಬಿಟ್ಟುಕೊಂಡು ಹಿಂಬದಿಯ ಯಥಾಪ್ರತಿಯನ್ನು (ಅಭ್ಯರ್ಥಿಯ ಪ್ರತಿ) ಅಭ್ಯರ್ಥಿಗಳಿಗೆ ಕೊಡುತ್ತಾರೆ.
 9. ಎಲ್ಲಾ ಪ್ರಶ್ನೆಗಳಿಗೆ ಸಮಾನ ಅಂಕಗಳಿರುತ್ತವೆ.
 10. ಯಾವುದೇ ರೀತಿಯ ಮೊಬೈಲ್ ಫೋನ್, ಕ್ಯಾಲ್ಕುಲೇಟರ್ ಮತ್ತು ಇತರೆ ರೀತಿಯ ಎಲೆಕ್ಟ್ರಾನಿಕ್/ಕಮ್ಯೂನಿಕೇಷನ್ ಸಾಧನಗಳು ಇತ್ಯಾದಿಗಳನ್ನು ಪರೀಕ್ಷಾ ಕೇಂದ್ರದ ಆವರಣದೊಳಗೆ ತರುವುದನ್ನು ನಿಷೇಧಿಸಿದೆ.
 11. ಋಣಾತ್ಮಕ ಮೌಲ್ಯಮಾಪನವಿದ್ದು, ಪ್ರತಿ ತಪ್ಪು ಉತ್ತರಕ್ಕೆ 1/4 ಅಂಕಗಳನ್ನು ಕಳೆಯಲಾಗುವುದು.
 12. ಸರಿಯಾದ ಉತ್ತರ ಗೊತ್ತಿಲ್ಲದಿದ್ದರೆ ಕಡ್ಡಾಯವಾಗಿ 5ನೇ ವ್ಯತ್ಯಾಸವನ್ನು ಶೇಡ್ ಮಾಡತಕ್ಕದ್ದು, ಇದಕ್ಕಾಗಿ ಪರೀಕ್ಷಾ ಅವಧಿ ನಂತರ 05 ನಿಮಿಷ ಸಮಯಾವಕಾಶ ನೀಡಲಾಗುವುದು. ಯಾವುದೇ ಆಯ್ಕೆಯನ್ನು / ವ್ಯತ್ಯಾಸವನ್ನು ಶೇಡ್ ಮಾಡಿಲ್ಲದಿದ್ದರೆ, ಪ್ರತಿ ಪ್ರಶ್ನೆಗೆ 1/4 ಅಂಕಗಳನ್ನು ಕಡಿತಗೊಳಿಸಲಾಗುವುದು.
- ಸೂಚನೆ: ಪ್ರಶ್ನೆಪತ್ರಿಕೆಯಲ್ಲಿನ ಯಾವುದಾದರೂ ಪ್ರಶ್ನೆಯ ಬಗ್ಗೆ ಸಂದೇಹ ಉಂಟಾದಲ್ಲಿ ಕನ್ನಡ/ ಇಂಗ್ಲೀಷ್ ಭಾಗವನ್ನು ನೋಡುವುದು.

C1

1. In the following sentence, find out which part of it has an error. If there is no mistake, the answer is no error.

Antique jewellery / was stolen / from the museum / No Error

1

2

3

4

- (1) No Error
(2) Was stolen
(3) Antique jewellery
(4) From the museum
2. Change the speech of the sentence.
He said that Rama had been writing a letter the previous day.
- (1) He said, "Rama was writing a letter yesterday".
(2) He said, "Rama is writing letter today".
(3) He said, "Rama was written a letter yesterday".
(4) He said, "Rama had written a letter that day".

3. Punctuate the following sentence:

He asked me where I was going

- (1) He asked me where I was going?
(2) He asked me where I was going,
(3) He asked me where I was going!
(4) He asked me where I was going.
4. Which of the following is/are not the interjection/s?

- (a) Hurrah
(b) Alas
(c) Yes
(d) Hush

- (1) (a) and (b)
(3) (a) and (d)

- (2) (c) only
(4) (d) only

ಕಚ್ಚಾ ಕೆಲಸಕ್ಕೆ ಸ್ಥಳ

5. Choose the plural form/s of the following word.

Formula

- (a) Formulae
- (b) Formula
- (c) Formulas
- (d) Formuli

- (1) Only (a)
- (2) (a) and (d)
- (3) (a) and (c)
- (4) (a) and (b)

6. Identify the figure of speech of the following sentence.

The camel is the ship of the desert.

- (1) Personification
- (2) Simile
- (3) Metaphor
- (4) Hyperbole

7. Write one word substitute to the following sentence.

One who is all powerful.

- (1) Omnipotent
- (2) Omniscient
- (3) Omnipresent
- (4) Invincible

8. Fill in the blank with the right word.

He works in a _____ loom industry.

- (1) hair
- (2) heir
- (3) air
- (4) hare

SPACE FOR ROUGH WORK

C1

9. Match the following:

List-I

- (a) Convince
- (b) Alight
- (c) Refuse
- (d) Divulge

List-II

- (i) Grant
- (ii) Dissuade
- (iii) Conceal
- (iv) Embark

Codes:

- (1) a - iv, b - i, c - ii, d - iii
- (3) a - ii, b - iv, c - i, d - iii

- (2) a - iii, b - ii, c - iv, d - i
- (4) a - ii, b - iii, c - iv, d - i

10. Direction:

Choose the right homonym and fill in the blank.

The police warned the leader that a single wrong statement could _____ violence among the protestors.

- (1) insight
- (2) incite
- (3) ensite
- (4) ensuite

★ In the following passage, there are blanks, each of which has been numbered. These numbers are printed below the passage and against each, some words are suggested, one of which fits the blank appropriately. Find out the appropriate words (Refer the same paragraph given below for questions 11 to 13)

The government's recent proposal to reform subsidies aims to create a system that is more _____ (11) and targeted. Critics argue that the current structure promotes inefficiencies by _____ (12) consumption rather than incentivizing productivity. While policy makers agree that rationalization is necessary, they caution that abrupt changes could lead to _____ (13) among vulnerable groups.

11. (1) efficient
(2) universal
(3) expensive
(4) experimental

ಕಚ್ಚಾ ಕೆಲಸಕ್ಕೆ ಸ್ಥಳ

12. (1) controlling
(2) encouraging
(3) restricting
(4) predicting

13. (1) autonomy
(2) uncertainty
(3) resilience
(4) mobility

14. Fill in the blank with the antonym of the underlined word.

The recipe on the Insta page looked tasty but was _____ when I tried it.

- (1) delicious
(2) delectable
(3) insipid
(4) palatable

15. Choose the most appropriate form of reported speech for the given statement.

She said, "I have been waiting for two hours, and I can't stay any longer".

- (1) She said that she had waited for two hours and she can't stay any longer.
(2) She said she has been waiting for two hours and she can't stay any longer.
(3) She said that she was waiting for two hours and she won't stay any longer.
(4) She said that she had been waiting for two hours and that she couldn't stay any longer.

16. Identify the sentence where the italicized word has a spelling error.

- (1) Her *indispensible* contributions were noted.
(2) He felt deep *embarrassment* after the speech.
(3) The *occurrence* of the event was unexpected.
(4) *Accommodation* was difficult to find.

SPACE FOR ROUGH WORK

17. Directions:

Consider the following four sentences which are denoted by A, B, C and D. By using all the four sentences you have to frame a meaningful para. The correct order of the sentences is your answer. Choose from the four options, the one having the correct order of the sentences.

- (A) Along with missing their education, these children also face life-threatening dangers by working in hazardous chemical factories.
 (B) Child labour has been interfering with the education of millions of children across India.
 (C) However, there is a dire need to reinforce these laws strictly throughout the country.
 (D) Many laws have been framed in order to curb this evil.

(1) (B)(A)(D)(C)

(2) (C)(B)(A)(D)

(3) (B)(D)(A)(C)

(4) (B)(A)(C)(D)

18. Identify the tense of the following sentence.

"Students had been playing hockey in the playground".

(1) Present perfect

(2) Present perfect continuous

(3) Past perfect

(4) Past perfect continuous

19. Complete the following sentence by using the correct tense form.

"Rita ____ the Taj Mahal last year".

(1) have visited

(2) had visited

(3) has visited

(4) had been visited

20. Choose the correct question tag for the sentence.

'He never turns up for the meetings, _____'.

(1) doesn't he?

(2) did he?

(3) didn't he?

(4) does he?

ಕಚ್ಚಾ ಕೆಲಸಕ್ಕೆ ಸ್ಥಳ

21. ಈ ಕೆಳಗಿನವುಗಳಲ್ಲಿ ಲಿಂಗ ಮತ್ತು ಪ್ರತ್ಯಯಗಳಿಗೆ ಅನುಗುಣವಾಗಿ ಹೊಂದಾಣಿಕೆ ಆಗದಿರುವುದನ್ನು ಗುರುತಿಸಿ.
- (1) ಗುಣವಾಚಕ - ಒಳ್ಳಿದನ್, ಒಳ್ಳಿದಳ್, ಒಳ್ಳಿತು
 - (2) ಸರ್ವನಾಮ - ಅದು, ಅವನ್, ಅವಳ್
 - (3) ಸಂಖ್ಯಾವಾಚಕ - ಒಂದು, ಒರ್ವನ್, ಒರ್ವಳ್
 - (4) ಪರಿಮಾಣವಾಚಕ - ಎಳೆಯನ್, ಪೊಲ್ಲನ್, ಪೆಱಿತು
22. ಕನ್ನಡದಲ್ಲಿ ಲಿಂಗವು ಅರ್ಥವನ್ನು ಅನುಸರಿಸುವುದರಿಂದ ಮೂಲದಲ್ಲಿ ಅದು ಈ ಕೆಳಗಿನದರಿಂದ ಸೂಚಿತವಾಗುವುದು.
- (1) ಪ್ರತ್ಯಯ
 - (2) ಪ್ರಕೃತಿ ಪ್ರತ್ಯಯ
 - (3) ಪ್ರಕೃತಿ
 - (4) ಧಾತು
23. ಈ ಕೆಳಗಿನ ಪದಗಳಲ್ಲಿ ಶುದ್ಧರೂಪ ಪದವನ್ನು ಗುರುತಿಸಿ.
- (1) ಭಿನ್ನ ಬೇಧ
 - (2) ಬಿನ್ನ ಬೇಧ
 - (3) ಬಿನ್ನ ಭೇದ
 - (4) ಬಿನ್ನ ಬೇದ
24. ಏರುಪೇರಾದ ಗಾದೆಯನ್ನು ಸಂಕೇತಗಳಿಂದ ಸರಿಮಾಡಿ ಗುರುತಿಸಿ.
- ಪಂಥ ದಂತ ಹೋದರೂ ಬಿಡ
- | | | | |
|-----|-----|-----|-----|
| (a) | (b) | (c) | (d) |
|-----|-----|-----|-----|
- (1) (a), (c), (b), (d)
 - (2) (a), (b), (c), (d)
 - (3) (b), (c), (a), (d)
 - (4) (b), (a), (c), (d)
25. ಈ ಕೆಳಗೆ ಕೊಟ್ಟಿರುವ ವಾಕ್ಯ ಏರುಪೇರಾಗಿದೆ; ಸರಿಯಾದ ಕ್ರಮದಲ್ಲಿರುವ ಆಯ್ಕೆಯನ್ನು ಗುರುತಿಸಿ.
- ಕನ್ನಡವೇ ರಾಜ-ರಾಣಿ ಕನ್ನಡ ಎಲ್ಲವೂ ನಾಡಿನಲ್ಲಿ
- | | | | | |
|-----|-----|-----|-----|-----|
| (a) | (b) | (c) | (d) | (e) |
|-----|-----|-----|-----|-----|
- (1) (c), (e), (a), (b), (d)
 - (2) (b), (d), (c), (e), (a)
 - (3) (c), (e), (d), (b), (a)
 - (4) (a), (b), (c), (e), (d)

SPACE FOR ROUGH WORK

26. ಇಂಗ್ಲಿಷ್ ಅಂಕಿಯಾದ 1969 ಮತ್ತು 1696ರ ಕನ್ನಡ ಅಂಕಿಗಳ ಸರಿಯಾದ ರೂಪವನ್ನು ಕೆಳಗೆ ಕೊಟ್ಟಿರುವ ಆಯ್ಕೆಗಳಿಂದ ಗುರುತಿಸಿ.

- (1) ೧೬೯೬ ಮತ್ತು ೧೯೬೯
- (2) ೧೯೬೯ ಮತ್ತು ೧೬೯೬
- (3) ೧೯೬೬ ಮತ್ತು ೧೬೯೬
- (4) ೧೬೯೬ ಮತ್ತು ೧೬೯೬

27. ಯೋಗವಾಹಗಳಿಗೆ ಸಂಬಂಧಿಸಿದಂತೆ ಈ ಕೆಳಗಿನ ಯಾವ ಹೇಳಿಕೆ/ಹೇಳಿಕೆಗಳು ಸರಿಯಾಗಿದೆ/ವೆ?

- (ಎ) ಯೋಗವಾಹಗಳನ್ನು ಸ್ವತಂತ್ರವಾಗಿ ಉಚ್ಚಾರ ಮಾಡಬಹುದು.
- (ಬಿ) ಯೋಗವಾಹಗಳನ್ನು ಸ್ವತಂತ್ರವಾಗಿ ಉಚ್ಚಾರ ಮಾಡಲು ಬರುವುದಿಲ್ಲ.
- (ಸಿ) ಯೋಗವಾಹಗಳನ್ನು ಸ್ವರಾಕ್ಷರಗಳೊಂದಿಗೆ ಮಾತ್ರ ಉಚ್ಚಾರ ಮಾಡಬಹುದು.
- (ಡಿ) ಯೋಗವಾಹಗಳನ್ನು ವ್ಯಂಜನಗಳೊಂದಿಗೆ ಮಾತ್ರ ಉಚ್ಚಾರ ಮಾಡಬಹುದು.

- (1) ಎ ಮತ್ತು ಬಿ ಸರಿ
- (2) ಬಿ ಮತ್ತು ಡಿ ಸರಿ
- (3) ಎ ಮತ್ತು ಸಿ ಸರಿ
- (4) ಬಿ ಮತ್ತು ಸಿ ಸರಿ

28. ಹೇಳಿಕೆ-I : ಕನ್ನಡವೂ ಸೇರಿದಂತೆ ದ್ರಾವಿಡ ಭಾಷೆಗಳಲ್ಲಿ ಮಹಾಪ್ರಾಣ ವರ್ಣಗಳು ಸ್ವಾಭಾವಿಕವಾಗಿ ಕಂಡು ಬರುತ್ತವೆ.
ಹೇಳಿಕೆ-II : ಆದರೆ ಸಂಸ್ಕೃತ ಪ್ರಾಕೃತ ಶಬ್ದಗಳನ್ನು ಸ್ವೀಕರಿಸುವಾಗಲೂ ಅನುಕರಣೆಯ ಶಬ್ದಗಳಲ್ಲಿ ಭಾವತೀವ್ರತೆಯ ಕಾರಣದಿಂದಲೂ ಅವನ್ನು ಬಳಸುವುದು ರೂಢಿಯಲ್ಲಿದೆ.

ಈ ಮೇಲಿನ ಹೇಳಿಕೆಗಳನ್ನು ಗಮನಿಸಿ ಕೆಳಗಿನ ಆಯ್ಕೆಗಳಿಂದ ಸರಿಯಾದ ಉತ್ತರ ಆರಿಸಿ.

- (1) ಹೇಳಿಕೆ-I ಮತ್ತು ಹೇಳಿಕೆ-II ಎರಡೂ ಸರಿ
- (2) ಹೇಳಿಕೆ-I ಮತ್ತು ಹೇಳಿಕೆ-II ಎರಡೂ ತಪ್ಪು
- (3) ಹೇಳಿಕೆ-I ತಪ್ಪು, ಹೇಳಿಕೆ-II ಸರಿ
- (4) ಹೇಳಿಕೆ-I ಸರಿ ಮತ್ತು ಹೇಳಿಕೆ-II ತಪ್ಪು

ಕಚ್ಚಾ ಕೆಲಸಕ್ಕೆ ಸ್ಥಳ

29. ಔಪಚಾರಿಕ ಮತ್ತು ಅನೌಪಚಾರಿಕ ಪತ್ರಗಳಿಗೆ ಸಂಬಂಧಿಸಿದಂತೆ ಈ ಕೆಳಗಿನ ಹೇಳಿಕೆಗಳನ್ನು ಗಮನಿಸಿ ಸರಿಯಾದ ಆಯ್ಕೆಯನ್ನು ಗುರುತಿಸಿ.

ಹೇಳಿಕೆ-I : ಔಪಚಾರಿಕ ಪತ್ರಗಳಲ್ಲಿ ಪತ್ರದ ವಿಷಯ ಬರೆಯಬೇಕು.

ಹೇಳಿಕೆ-II : ಅನೌಪಚಾರಿಕ ಪತ್ರಗಳಲ್ಲಿ ಪತ್ರದ ವಿಷಯ ಬರೆಯುವ ಅವಶ್ಯಕತೆ ಇಲ್ಲ.

(1) ಹೇಳಿಕೆ-I ತಪ್ಪು ಮತ್ತು ಹೇಳಿಕೆ-II ಸರಿ

(2) ಹೇಳಿಕೆ-I ಮತ್ತು ಹೇಳಿಕೆ-II ಎರಡೂ ತಪ್ಪು

(3) ಹೇಳಿಕೆ-I ಮತ್ತು ಹೇಳಿಕೆ-II ಎರಡೂ ಸರಿ

(4) ಹೇಳಿಕೆ-I ಸರಿ ಮತ್ತು ಹೇಳಿಕೆ-II ತಪ್ಪು

30. 'ಶಾಲೆಯಲ್ಲ ಇದು ವಿದ್ಯಾ ದೇಗುಲ' - ಇಲ್ಲಿರುವ ಅಲಂಕಾರವನ್ನು ಗುರುತಿಸಿ.

(1) ರೂಪಕ

(2) ದೃಷ್ಟಾಂತ

(3) ಅಪಹ್ನುತಿ

(4) ಯಮಕ

31. ಈ ಕೆಳಗಿನ ವಾಕ್ಯದಲ್ಲಿ ಅಡ್ಡಗೆರೆ ಎಳೆದ ಪದದ ಸರಿಯಾದ ಶಬ್ದ ರೂಪವನ್ನು ಗುರುತಿಸಿ. ಅವನ ಮಾತಿನ ಹ್ಯುತ್ವತ್ತಿ ಸೊಗಸಾಗಿದೆ.

(1) ಹ್ಯುತ್ವತ್ತಿ

(2) ವ್ಯುತ್ವತ್ತಿ

(3) ವ್ಯುತ್ವತ್ತಿ

(4) ನಿಷ್ಪತ್ತಿ

32. 'ತಡಸಲು' ಪದದ ಅರ್ಥವನ್ನು ಗುರುತಿಸಿ.

(1) ಘಟ್ಟ

(2) ಪ್ರಪಾತ

(3) ಜಲಪಾತ

(4) ಕಣಿವೆ

SPACE FOR ROUGH WORK

33. ಕೆಳಗಿನ ಯಾವುದು ಕನ್ನಡ ವ್ಯಂಜನ ಸಂಧಿಗೆ ಉದಾಹರಣೆಯಲ್ಲ?
- (1) ನೀರ್ದೊನಲ್ (2) ಕಣ್ಣೇಟ
(3) ನುಣ್ಣರ (4) ಎಳವಳ್ಳಿ
34. ಈ ಕೆಳಗಿನ ಯಾವ ಪದಗಳಲ್ಲಿ ಸಂಧಿಕಾರ್ಯ ಸಾಧ್ಯವಾಗಿಲ್ಲ, ಗುರುತಿಸಿ.
- (a) ಮೆಲ್ಲಾಸು (b) ಬಾಯ್ನವಿ
(c) ಬೆಳ್ಳರಿ (d) ಪೊಂಜುರಿಗೆ
- (1) (d) ಮಾತ್ರ
(2) (d) ಮತ್ತು (a)
(3) (a) ಮತ್ತು (b)
(4) (b) ಮತ್ತು (c)
35. ಈ ಕೆಳಗಿನವುಗಳನ್ನು ಹೊಂದಿಸಿ ಬರೆಯಿರಿ.
- | | |
|-------------------|---------------|
| ಪಟ್ಟಿ-I | ಪಟ್ಟಿ-II |
| (a) ಜಶ್ವ ಸಂಧಿ | (i) ಕಮ್ಮನಿ |
| (b) ಶ್ಚುತ್ವ ಸಂಧಿ | (ii) ಸತ್ಸಂಗ |
| (c) ಅನುನಾಸಿಕ ಸಂಧಿ | (iii) ಮನಶ್ಚಪಲ |
| (d) ಪ್ರಕೃತಿ ಭಾವ | (iv) ಅಜಾದಿ |
- ಸಂಕೇತಗಳು :
- (1) a - iv, b - iii, c - i, d - ii (2) a - iii, b - iv, c - i, d - ii
(3) a - iv, b - iii, c - ii, d - i (4) a - ii, b - iii, c - iv, d - i
36. 'ನದ್ಯುದಕ' ಸಂಧಿ ಪದವನ್ನು ಬಿಡಿಸುವ ಸರಿಯಾದ ಕ್ರಮ
- (1) ನದ್ + ಉದಕ (2) ನತ್ + ಉದಕ
(3) ನದಿ + ಉದಕ (4) ನದ್ಯ + ಉದಕ

ಕಚ್ಚಾ ಕೆಲಸಕ್ಕೆ ಸ್ಥಳ

37. ಕೆಳಗೆ ನೀಡಿರುವ ಸಂಧಿ ಪದಗಳಲ್ಲಿ ಸಂಸ್ಕೃತ ಸ್ವರ ಸಂಧಿಗಳಲ್ಲದವನ್ನು ಗುರುತಿಸಿ.

- (a) ಗ್ರಾಮೋದ್ಧಾರ
- (b) ಪ್ರಾಗೈತಿಹಾಸ
- (c) ಹೃನ್ಮಂದಿರ
- (d) ಪ್ರಥಮೈಕಾದತಿ

(1) (d) ಮಾತ್ರ

(2) (a) ಮತ್ತು (d)

(3) (b) ಮತ್ತು (c)

(4) (c) ಮತ್ತು (d)

38. ಹೊಂದಿಸಿ ಬರೆಯಿರಿ.

ಪಟ್ಟಿ-I

- (a) ಅವನು
- (b) ಅವು
- (c) ನಾನು
- (d) ನೀವು

ಪಟ್ಟಿ-II

- (i) ಉತ್ತಮ ಪುರುಷ ಏಕವಚನ
- (ii) ಪ್ರಥಮ ಪುರುಷ ಬಹುವಚನ
- (iii) ಮಧ್ಯಮ ಪುರುಷ ಬಹುವಚನ
- (iv) ಪ್ರಥಮ ಪುರುಷ ಏಕವಚನ

ಸಂಕೇತಗಳು :

(1) a - iii, b - ii, c - iv, d - i

(2) a - iv, b - i, c - iii, d - ii

(3) a - i, b - iv, c - ii, d - iii

(4) a - iv, b - ii, c - i, d - iii

39. ಈ ಕೆಳಗಿನವುಗಳನ್ನು ಹೊಂದಿಸಿ ಬರೆಯಿರಿ.

ಪಟ್ಟಿ-I

- (a) ಪರಿಮಾಣ ವಾಚಕ
- (b) ಪ್ರಕಾರ ವಾಚಕ
- (c) ದಿಗ್ವಾಚಕ
- (d) ವಸ್ತು ವಾಚಕ

ಪಟ್ಟಿ-II

- (i) ಎಂಥ
- (ii) ಮರ
- (iii) ಕೆಲವು
- (iv) ಎಡ

ಸಂಕೇತಗಳು :

(1) a - iii, b - i, c - iv, d - ii

(2) a - i, b - iv, c - ii, d - iii

(3) a - iii, b - iv, c - i, d - ii

(4) a - ii, b - i, c - iv, d - iii

SPACE FOR ROUGH WORK

40. ಈ ಕೆಳಗಿನ ಯಾವ ಜೋಡಿ/ಜೋಡಿಗಳು ಸರಿಯಾಗಿ ಹೊಂದಾಣಿಕೆಯಾಗಿಲ್ಲ?
- ತದ್ವಿತ ಭಾವನಾಮ - ಕಲಿತನ
 - ಸ್ತ್ರೀಲಿಂಗ ತದ್ವಿತ ಪ್ರತ್ಯಯ - ಕೆಳದಿ
 - ವಿದ್ಯಾರ್ಥ - ಪೋಗಿಮ್
 - ಪ್ರತಿಷೇಧಾರ್ಥ - ಒಡೆಯ
- (a) ಮತ್ತು (b)
 - (b) ಮತ್ತು (d)
 - (c) ಮಾತ್ರ
 - (d) ಮಾತ್ರ
41. ನಾಮ ಪದವಾಗಿಯೂ ಕ್ರಿಯಾಪದವಾಗಿಯೂ ಬಳಕೆಯಾಗುವ ಧಾತುಗಳನ್ನು ಗುರುತಿಸಿ.
- ಆಡು, ಕಾಡು
 - ಹರಿ, ಗರಿ
 - ಆಳು, ಹಾಳು
 - ಮಳೆ, ಬೆಳೆ
42. “ಒಂದ್ನಲ ಒಂದು ಗ್ರಾಮದ ಜನೈಲ್ಲಾ ಸೇರಿ ತಮ್ಮ ದೇವತೆಗೆ ಗುಡಿ ಕಟ್ಟಾ ಇದು.”
ಕೊಟ್ಟಿರುವ ಮೇಲಿನ ವಾಕ್ಯದಲ್ಲಿ ಎಷ್ಟು ಗ್ರಾಮ್ಯ ರೂಪಗಳಿವೆ?
- ಒಂದು
 - ಮೂರು
 - ಐದು
 - ನಾಲ್ಕು
43. ಕೆಳಗೆ ನೀಡಿರುವ ವಾಕ್ಯಕ್ಕೆ ಸರಿಯಾದ ಲೇಖನ ಚಿಹ್ನೆಗಳನ್ನು ಹಾಕಿರುವ ಆಯ್ಕೆಯನ್ನು ಗುರುತಿಸಿ.
ಅಯ್ಯೋ ನನಗೆ ತಾಳಲಾರದ ಹಸಿವು ಇಲ್ಲಿ ನನ್ನ ಹಸಿವನ್ನು ಹಿಂಗಿಸುವವರು ಯಾರೂ ಇಲ್ಲವೆ ಎಂದು ಕೂಗಿದನು.
- “ಅಯ್ಯೋ! ನನಗೆ ತಾಳಲಾರದ ಹಸಿವು. ಇಲ್ಲಿ ನನ್ನ ಹಸಿವನ್ನು ಹಿಂಗಿಸುವವರು ಯಾರೂ ಇಲ್ಲವೆ?” ಎಂದು ಕೂಗಿದನು.
 - ಅಯ್ಯೋ! ನನಗೆ ತಾಳಲಾರದ ಹಸಿವು ಇಲ್ಲಿ ನನ್ನ ಹಸಿವನ್ನು ಹಿಂಗಿಸುವವರು, ಯಾರೂ ಇಲ್ಲವೆ? ಎಂದು ಕೂಗಿದನು.
 - “ಅಯ್ಯೋ ನನಗೆ ತಾಳಲಾರದ ಹಸಿವು, ಇಲ್ಲಿ ನನ್ನ ಹಸಿವನ್ನು ಹಿಂಗಿಸುವವರು ಯಾರೂ ಇಲ್ಲವೆ. ಎಂದು ಕೂಗಿದನು.”
 - “ಅಯ್ಯೋ ನನಗೆ ತಾಳಲಾರದ ಹಸಿವು” ಇಲ್ಲಿ ನನ್ನ ಹಸಿವನ್ನು ಹಿಂಗಿಸುವವರು ಯಾರೂ ಇಲ್ಲವೆ? ಎಂದು ಕೂಗಿದನು

ಕಟ್ಟಾ ಕೆಲಸಕ್ಕೆ ಸ್ಥಳ

44. ಈ ಕೆಳಗಿನವುಗಳಲ್ಲಿ ಬಸವಣ್ಣನವರಿಂದ ರಚಿತವಾಗಿರದ ವಚನದ ಸಾಲನ್ನು ಗುರುತಿಸಿ.

- (1) ಉಳ್ಳವರು ಶಿವಾಲಯವ ಮಾಡುವರು (2) ಇಳೆ ನಿಮ್ಮ ದಾನ, ಬೆಳೆ ನಿಮ್ಮ ದಾನ
(3) ಮತ್ಯಲೋಕವೆಂಬುದು ಕರ್ತಾರನ ಕಮ್ಮಟ (4) ಕಲ್ಲನಾಗರ ಕಂಡರೆ ಹಾಲೆರೆ ಎಂಬರು

45. ಹೊಂದಿಸಿ ಬರೆಯಿರಿ.

ಛಂದಸ್ಸು		ಮಾತ್ರಾ ವಿನ್ಯಾಸ
(a) ಭಾಮಿನಿ ಷಟ್ಪದಿ	(i)	5 5 5 5 5 5 5 ಗುರು
(b) ವಾರ್ಧಕ ಷಟ್ಪದಿ	(ii)	5 5 5 5 5 5 5 5 5 5 5 5 5 ಗುರು
(c) ಕುಸುಮ ಷಟ್ಪದಿ	(iii)	3 3 3 3 3 3 3 3 3 3 3 3 3 ಗುರು
(d) ಭೋಗ ಷಟ್ಪದಿ	(iv)	3 4 3 4 3 4 3 4 3 4 3 4 3 4 ಗುರು

ಸಂಕೇತಗಳು :

- (1) a - iv, b - ii, c - iii, d - i (2) a - iv, b - iii, c - ii, d - i
(3) a - iv, b - ii, c - i, d - iii (4) a - iv, b - i, c - ii, d - iii

46. ಪೂರ್ಣ ವರ್ತಮಾನಕಾಲವನ್ನು ಸೂಚಿಸುವ ಕ್ರಿಯಾಪದವನ್ನು ಗುರುತಿಸಿ.

- (1) ತಿಂದಿರುವನು (2) ತಿಂದಿದ್ದಾನೆ
(3) ತಿಂದಿದ್ದನು (4) ತಿನ್ನುತ್ತಿರಬಹುದು

47. ಕ್ರಿಯೆಗೆ ಸಂಬಂಧಿಸಿದ ಕಾರಕಾರ್ಥವನ್ನು ಹೊಂದಿಲ್ಲದ ವಿಭಕ್ತಿಗಳು ಯಾವುವು?

- (1) ಪ್ರಥಮಾ, ತೃತೀಯಾ (2) ಷಷ್ಠೀ, ಸಂಬೋಧನಾ
(3) ಪಂಚಮೀ, ಸಪ್ತಮೀ (4) ದ್ವಿತೀಯಾ, ಚತುರ್ಥಿ

SPACE FOR ROUGH WORK

48. ಈ ಕೆಳಗಿನವುಗಳನ್ನು ಹೊಂದಿಸಿ ಬರೆಯಿರಿ.

ಸಮಾಸ ಪದ

- (a) ಕೇಸಕ್ಕಿ
(b) ಕುತ್ತಡಿ
(c) ಪ್ರಿಯಂನುಡಿ
(d) ನಾಯ್ಕಿಗ

ಸಮಾಸ

- (i) ಕ್ರಿಯಾ ಸಮಾಸ
(ii) ದ್ವಿಗು ಸಮಾಸ
(iii) ಕರ್ಮಧಾರಯ ಸಮಾಸ
(iv) ಬಹುವ್ರೀಹಿ ಸಮಾಸ

ಸಂಕೇತಗಳು :

- (1) a - i, b - iii, c - ii, d - iv
(3) a - iii, b - iv, c - i, d - ii

- (2) a - ii, b - i, c - iv, d - iii
(4) a - iv, b - ii, c - i, d - iii

49. ಕೆಳಗಿನ ವಿರುದ್ಧ ಪದಗಳಲ್ಲಿ ಸರಿಯಾದ ಜೋಡಿ/ಜೋಡಿಗಳನ್ನು ಗುರುತಿಸಿ.

- (a) ಪಾವನ × ಪಾತಕ
(c) ಆವರ್ತ × ನಿರವರ್ತ

- (b) ಸ್ವಾರ್ಥ × ಪರಾರ್ಥ
(d) ಲಂಘನ × ಅಲಂಘನ

- (1) (a) ಮತ್ತು (b)
(3) (b) ಮತ್ತು (c)

- (2) (a) ಮತ್ತು (c)
(4) (b) ಮತ್ತು (d)

50. ಕೆಳಗಿನ ತತ್ಸಮ - ತದ್ಭವಗಳನ್ನು ಹೊಂದಿಸಿ ಬರೆಯಿರಿ.

ಪಟ್ಟಿ-I

- (a) ಅಂಗಾರ
(b) ಕುಡ್ಯ
(c) ವಲ್ಲ
(d) ವೀಟೆ

ಪಟ್ಟಿ-II

- (i) ಬಳ್ಳಿ
(ii) ವೀಳ್ಯ
(iii) ಗೋಡೆ
(iv) ಇಂಗಳ

ಸಂಕೇತಗಳು :

- (1) a - iv, b - i, c - iii, d - ii
(3) a - iv, b - iii, c - i, d - ii

- (2) a - ii, b - iii, c - iv, d - i
(4) a - ii, b - iv, c - i, d - iii

51. 'ರಾಮನು ಹಣ್ಣನ್ನು ತಿನ್ನುತ್ತಾನೆ' - ಈ ವಾಕ್ಯದಲ್ಲಿ ಅಡಿಗರೆ ಎಳೆದ ಪದದ ಕ್ರಿಯಾಪದವನ್ನು ಗುರುತಿಸಿ.

- (1) ಅಕರ್ಮಕ ಕ್ರಿಯಾಪದ
(3) ನಿಷೇಧಾರ್ಥಕ ಕ್ರಿಯಾಪದ

- (2) ಸಕರ್ಮಕ ಕ್ರಿಯಾಪದ
(4) ವಿದ್ಯರ್ಥಕ ಕ್ರಿಯಾಪದ

52. ಈ ಕೆಳಗಿನ ವಾಕ್ಯದಲ್ಲಿ ಅಡಿಗೆರೆ ಎಳೆದಿರುವ ಪದಗಳಲ್ಲಿ ತಪ್ಪಾಗಿರುವ ಪದಗಳನ್ನು ಗುರುತಿಸಿ.
 ವಿದ್ಯಾರ್ಥಿಗಳು ಉಪಾಧ್ಯಾಯರ ಮುಂದೆ ವಿಘ್ನಪನೆ ಮೂಲಕ ಭಿನ್ನವತ್ಯಯನ್ನು ಸಲ್ಲಿಸಿದರು.
 (a) (b) (c) (d)

(1) (a) ಮಾತ್ರ

(2) (c) ಮಾತ್ರ

(3) (a) ಮತ್ತು (d)

(4) (c) ಮತ್ತು (d)

53. 'ದ್ವಿತ್ವ' ಎಂಬುದಕ್ಕೆ ಸರಿಯಾದ ವಿವರಣೆ ಎಂದರೆ:

(1) ಒಂದೇ ಜಾತಿಯ ಎರಡು ವ್ಯಂಜನಗಳು ಸೇರುವುದಕ್ಕೆ ದ್ವಿತ್ವವೆನ್ನುವರು.

(2) ಒಂದೇ ಜಾತಿಯ ಎರಡು ಸ್ವರಗಳು ಸೇರುವುದಕ್ಕೆ ದ್ವಿತ್ವವೆನ್ನುವರು.

(3) ಒಂದೇ ಜಾತಿಯ ಎರಡು ಒತ್ತಕ್ಷರಗಳು ಸೇರುವುದಕ್ಕೆ ದ್ವಿತ್ವವೆನ್ನುವರು.

(4) ಒಂದೇ ಜಾತಿಯ ಮಹಾ ಪ್ರಾಣಗಳು ಸೇರುವುದಕ್ಕೆ ದ್ವಿತ್ವವೆನ್ನುವರು.

54. ಕೆಳಗಿನವುಗಳಲ್ಲಿ ಸರಿಯಾಗಿ ಹೊಂದಿಕೆಯಾಗುವ ಗುಂಪುಗಳನ್ನು ಗುರುತಿಸಿ.

(a) ಕಲ್ಯಾಣ, ಮದುವೆ, ಮಂಗಳ, ಕ್ಷೇಮ

(b) ಕಾಡು, ಪೀಡಿಸು, ಅರಣ್ಯ, ಜಲ

(c) ಗತಿ, ಚಲನೆ, ಸ್ಥಿತಿ, ಮೋಕ್ಷ

(d) ನರ, ಅರ್ಜುನ, ರಕ್ತನಾಳ, ರಾಕ್ಷಸ

(1) (a) ಮತ್ತು (b)

(2) (b) ಮತ್ತು (c)

(3) (a) ಮತ್ತು (c)

(4) (a) ಮತ್ತು (d)

55. ಈ ಕೆಳಗಿನವುಗಳನ್ನು ಹೊಂದಿಸಿ ಬರೆಯಿರಿ.

ಪಟ್ಟಿ-I

(a) ಸರ್ವಣದೀರ್ಘ ಸಂಧಿ

(b) ಗುಣ ಸಂಧಿ

(c) ವೃದ್ಧಿ ಸಂಧಿ

(d) ಯಣ್ ಸಂಧಿ

ಪಟ್ಟಿ-II

(i) ಹಿತೌಷ್ಣಿ

(ii) ಬಹೂರ್ಜಿತ

(iii) ಭ್ರಾತ್ರಂಶ

(iv) ಕಾಳೋರಗ

ಸಂಕೇತಗಳು :

(1) a - ii, b - iv, c - iii, d - i

(2) a - ii, b - iv, c - i, d - iii

(3) a - iv, b - i, c - iii, d - ii

(4) a - iii, b - iv, c - ii, d - i

SPACE FOR ROUGH WORK

56. Choose the appropriate synonym of the underlined word in the given sentence.

India has abolished tangible punishment.

- (1) Fierce
- (2) Strong
- (3) Corporeal
- (4) Rescind

57. Match the following idioms with phrases:

List - I

- (a) Above board
- (b) By fits and starts
- (c) Eke out
- (d) Fly in the face of

List - II

- (i) Supplement income
- (ii) Fair and honest
- (iii) Irregularly
- (iv) To defy

Codes:

- (1) a - ii, b - iii, c - i, d - iv
- (2) a - iv, b - ii, c - i, d - iii
- (3) a - i, b - ii, c - iii, d - iv
- (4) a - iii, b - iv, c - i, d - ii

58. Rearrange the following words and phrases to form a meaningful sentence.

On the earth about twenty

P

Million centuries ago

Q

Scientists think

R

That life began

S

- (1) QPRS
- (2) RPQS
- (3) RSPQ
- (4) RQPS

ಕಚ್ಚಾ ಕೆಲಸಕ್ಕೆ ಸ್ವೀಕೃತ

59. Choose the correct adjective to fill in the blank.

The _____ conduct of the minister helped in the de-escalation of a very tense situation at the border.

- (1) abrasive (2) belligerent
(3) tactless (4) diplomatic

60. Fill in the blank with correct idiom and proverb.

I know I can do a better job if only my tools are better. This is a case of _____.

- (1) a drowning man will clutch at straws
(2) a friend in need is a friend indeed
(3) a bad workman blames his tools
(4) a bird in hand is worth two in the bush

61. Match the expressions under List - I to its corresponding language functions under List - II.

List - I

- (a) How do you do?
(b) Could you please pass me the book?
(c) You look beautiful in these new clothes
(d) Meet my friend Ratan

List - II

- (i) Complimenting
(ii) Greeting
(iii) Introducing
(iv) Requesting

Codes:

- (1) a - i, b - iv, c - ii, d - iii (2) a - ii, b - iv, c - i, d - iii
(3) a - iii, b - ii, c - iv, d - i (4) a - iv, b - iii, c - ii, d - i

62. Choose the correct answer.

When the bull ran _____ me, I jumped _____ the fence.

- (1) beside, next to (2) in, next to
(3) towards, over (4) towards, beside

SPACE FOR ROUGH WORK

63. Choose the correct answer.

That has to be the _____ film I have seen.

- (1) interesting (2) more interesting
(3) much interesting (4) most interesting

64. Match the following prepositions with their usage.

List - I

- (a) Along
(b) Into
(c) In
(d) Of

List - II

- (i) Possession
(ii) Time
(iii) Direction
(iv) Movement

Codes:

- (1) a - i, b - iv, c - ii, d - iii
(2) a - iv, b - iii, c - ii, d - i
(3) a - iii, b - i, c - iv, d - ii
(4) a - ii, b - i, c - iii, d - iv

65. Choose the correct answer.

He cut my hair _____ today than last time.

- (1) Quick
(2) More quick
(3) More quickly
(4) Quicker

66. Punctuate the following sentence with appropriate punctuation marks.

Bacon says reading makes a full man, writing an exact man speaking a ready man.

- (1) Bacon says, reading makes a full man, writing an exact man: speaking a ready man.
(2) Bacon says, 'Reading makes a full man, writing an exact man, speaking a ready man.'
(3) Bacon says: "Reading makes a full man, writing an exact man, speaking a ready man."
(4) Bacon says, "reading makes a full man, writing an exact man - speaking a ready man."

ಕಚ್ಚಾ ಕೆಲಸಕ್ಕೆ ಸೂಕ್ತ

67. Identify the figure of speech in the following sentence:

"Death, be not proud."

- (1) Simile
- (2) Personification
- (3) Metaphor
- (4) Oxymoron

68. In which of the following words, the letters 'un' is not a prefix.

- (1) Unlock
- (2) Under
- (3) Unethical
- (4) Undo

69. Which of the following alternatives makes the correct use of article?

- (1) Mahesh sells milk fifty rupees a litre.
- (2) Mahesh sells milk fifty rupees the litre.
- (3) Mahesh sells milk fifty rupees an litre.
- (4) Mahesh sells milk fifty rupees litre.

70. Fill in the blanks with suitable articles:

_____ thing of beauty; is _____ joy forever.

- | | |
|------------|-------------|
| (1) a, an | (2) an, the |
| (3) a, the | (4) a, a |

SPACE FOR ROUGH WORK

71. FLOPS ನ ವಿಸ್ತೃತ ರೂಪ:

- (1) ಫ್ಲೋಪಿಂಗ್ ಪಾಯಿಂಟ್ ಆಪರೇಷನ್ಸ್ ಪರ್ ಸೆಕೆಂಡ್
- (2) ಫ್ಲೋಟಿಂಗ್ ಪಾಯಿಂಟ್ ಆಪರೇಷನ್ಸ್ ಪರ್ ಸೆಕೆಂಡ್
- (3) ಫ್ಲೈಕ್ ಪಾಯಿಂಟ್ ಆಪರೇಷನ್ಸ್ ಪರ್ ಸೆಕೆಂಡ್
- (4) ಫ್ಲೋಟಿಂಗ್ ಪಾಯಿಂಟ್ ಆಪರೇಷನ್ಸ್ ಪರ್ ಸಿಸ್ಟಮ್

72. ಈ ಕೆಳಗಿನವುಗಳನ್ನು CPUನ ಕಾರ್ಯಗಳ ಕ್ರಮದಲ್ಲಿ ಜೋಡಿಸಿ.

- (1) ಫೇಸ್ → ಡಿಕೋಡ್ → ಸ್ಟೋರ್ → ಎಕ್ಸಿಕ್ಯೂಟ್
- (2) ಡಿಕೋಡ್ → ಫೇಸ್ → ಎಕ್ಸಿಕ್ಯೂಟ್ → ಸ್ಟೋರ್
- (3) ಫೇಸ್ → ಡಿಕೋಡ್ → ಎಕ್ಸಿಕ್ಯೂಟ್ → ಸ್ಟೋರ್
- (4) ಡಿಕೋಡ್ → ಎಕ್ಸಿಕ್ಯೂಟ್ → ಫೇಸ್ → ಸ್ಟೋರ್

73. ಮೆಮೊರಿಗೆ ಸಂಬಂಧಿಸಿದಂತೆ ಈ ಕೆಳಗಿನ ಹೇಳಿಕೆಗಳಲ್ಲಿ ಯಾವುದು ಸರಿ, ಯಾವುದು ತಪ್ಪು ಎಂದು ಗುರುತಿಸಿ.

- (a) ರ್ಯಾಮ್ (RAM) ಒಂದು ವೋಲಟೈಲ್ ಮೆಮೊರಿ ಆಗಿರುತ್ತದೆ ಮತ್ತು ಪ್ರೋಸೆಸರ್ ಮೂಲಕ ನೇರವಾಗಿ ಸಂಪರ್ಕ ಮಾಡಬಹುದು.
- (b) ರ್ಯಾಮ್ (RAM) ನಾನ್-ವೋಲಟೈಲ್ ಮೆಮೊರಿ ಆಗಿರುತ್ತದೆ ಮತ್ತು ಪ್ರೋಸೆಸರ್ ಮೂಲಕ ನೇರವಾಗಿ ಸಂಪರ್ಕ ಮಾಡಬಹುದು.
- (c) ರೋಮ್ (ROM) ನಾನ್-ವೋಲಟೈಲ್ ಮೆಮೊರಿ ಆಗಿರುತ್ತದೆ ಮತ್ತು ಪ್ರೋಸೆಸರ್ ಮೂಲಕ ನೇರವಾಗಿ ಸಂಪರ್ಕ ಮಾಡಲು ಸಾಧ್ಯವಿಲ್ಲ.

- (1) (a) ಸರಿ, (b) ಸರಿ, (c) ಸರಿ
- (2) (a) ಸರಿ, (b) ತಪ್ಪು, (c) ಸರಿ
- (3) (a) ತಪ್ಪು, (b) ಸರಿ, (c) ತಪ್ಪು
- (4) (a) ತಪ್ಪು, (b) ತಪ್ಪು, (c) ತಪ್ಪು

74. ಗೂಗಲ್ ಡೈವ್‌ನ ಬಳಕೆದಾರರ ಪಾತ್ರಗಳ ಆಧಾರದ ಮೇಲೆ ಈ ಕೆಳಗಿನ ಯಾವ ಹೇಳಿಕೆಗಳು ಸರಿ ಮತ್ತು ತಪ್ಪು ಎಂದು ಗುರುತಿಸಿ.

- (a) ವ್ಯೂವರ್ ಪಾತ್ರವು, ಫೈಲ್‌ಗಳು ಮತ್ತು ಫೋಲ್ಡರ್‌ಗಳನ್ನು ಎಡಿಟ್, ಕಮೆಂಟ್ ಮತ್ತು ಶೇರ್ ಮಾಡಬಹುದು.
- (b) ಎಡಿಟರ್ ಪಾತ್ರವು, ಫೈಲ್ ಮಾಲೀಕರನ್ನು ಬದಲಾಯಿಸಲು ಅಥವಾ ಡಿಲಿಟ್ ಮಾಡಲು ಸಾಧ್ಯವಿಲ್ಲ.

- (1) (a) ಸರಿ, (b) ಸರಿ
- (3) (a) ತಪ್ಪು, (b) ಸರಿ

(2) (a) ಸರಿ, (b) ತಪ್ಪು

(4) (a) ತಪ್ಪು, (b) ತಪ್ಪು





ಕಚ್ಚಾ ಕೆಲಸಕ್ಕೆ ಸ್ಥಳ

71. Expand FLOPS
- (1) Filtering Point Operations Per Second
 - (2) Floating Point Operations Per Second
 - (3) Flex Point Operations Per Second
 - (4) Floating Point Operations Per System
72. Arrange the following based on the functions of CPU in order.
- (1) Fetch → Decode → Store → Execute
 - (2) Decode → Fetch → Execute → Store
 - (3) Fetch → Decode → Execute → Store
 - (4) Decode → Execute → Fetch → Store
73. State whether the following statements are true or false based on memory.
- (a) RAM is the volatile memory and directly accessed by processor.
 - (b) RAM is the non-volatile memory and directly accessed by processor.
 - (c) ROM is non-volatile memory and cannot be directly accessed by processor.
- (1) (a) true, (b) true, (c) true
 - (2) (a) true, (b) false, (c) true
 - (3) (a) false, (b) true, (c) false
 - (4) (a) false, (b) false, (c) false
74. Based on the roles of the Google Drive users, mention if the below statements are true or false.
- (a) Viewer role can edit, comment and share the files and folders.
 - (b) Editor role cannot change the file owner or delete the files.
- (1) (a) true, (b) true
 - (2) (a) true, (b) false
 - (3) (a) false, (b) true
 - (4) (a) false, (b) false

SPACE FOR ROUGH WORK

75. ಹೊಂದಿಸಿ ಬರೆಯಿರಿ.

ಪಟ್ಟಿ-I

- (a) 
- (b) 
- (c) 
- (d) 

ಪಟ್ಟಿ-II

- (i) ಮಲ್ಟಿ ವ್ಯಾಲ್ಯೂಡ್ ಅಟ್ರಿಬ್ಯೂಟ್
- (ii) ಎನ್‌ಟಿಟಿ
- (iii) ರಿಲೇಷನ್‌ಶಿಪ್
- (iv) ಕೀ ಅಟ್ರಿಬ್ಯೂಟ್

ಸಂಕೇತಗಳು :

- (1) a - ii, b - i, c - iii, d - iv
- (2) a - iii, b - ii, c - iv, d - i
- (3) a - ii, b - iii, c - iv, d - i
- (4) a - iii, b - iv, c - ii, d - i

76. ಈ ಕೆಳಗಿನ ಲಾಜಿಕ್ ಗೇಟ್ ಯಾವ ಆಪರೇಷನ್ ಅನ್ನು ಮಾಡುತ್ತದೆ ಎಂದು ಗುರುತಿಸಿ.



- (1) ಎ.ಎನ್.ಡಿ. [AND]
- (2) ಎಕ್ಸ್.ಓ.ಆರ್. [XOR]
- (3) ಎಕ್ಸ್. ಎನ್.ಓ.ಆರ್. [XNOR]
- (4) ಓ.ಆರ್. [OR]

77. ಈ ಕೆಳಗಿನ ಯಾವ ಹೇಳಿಕೆಗಳು ಲಾಜಿಕ್ ಗೇಟ್‌ಗೆ ಸಂಬಂಧಪಟ್ಟಂತೆ ಸರಿಯಾಗಿವೆ?



- (a) AND ಗೇಟ್‌ನ್ನು ಅಂಕಗಣಿತದಲ್ಲಿನ ಗುಣಾಕಾರ ಕ್ರಿಯೆಗೆ ಬಳಸುತ್ತಾರೆ.
- (b) NAND ಗೇಟ್‌ನ್ನು ಅಂಕಗಣಿತದಲ್ಲಿನ ಗುಣಾಕಾರ ಕ್ರಿಯೆಗೆ ಬಳಸುತ್ತಾರೆ.
- (c) OR ಗೇಟ್‌ನ್ನು ಅಂಕಗಣಿತದಲ್ಲಿನ ಸಂಕಲನ ಕ್ರಿಯೆಗೆ ಬಳಸುತ್ತಾರೆ.
- (d) NOR ಗೇಟ್‌ನ್ನು ಅಂಕಗಣಿತದಲ್ಲಿನ ಸಂಕಲನ ಕ್ರಿಯೆಗೆ ಬಳಸುತ್ತಾರೆ.

- (1) (a), (b) ಮತ್ತು (c) ಸರಿಯಾಗಿವೆ
- (2) (a) ಮತ್ತು (c) ಸರಿಯಾಗಿವೆ
- (3) (b), (c) ಮತ್ತು (d) ಸರಿಯಾಗಿವೆ
- (4) (b) ಮತ್ತು (d) ಸರಿಯಾಗಿವೆ

ಕಚ್ಚಾ ಕೆಲಸಕ್ಕೆ ಸ್ಥಳ

75. Match the following:

List - I



List - II

(i) Multivalued Attribute

(ii) Entity

(iii) Relationship

(iv) Key Attribute

Codes:

(1) a - ii, b - i, c - iii, d - iv

(2) a - iii, b - ii, c - iv, d - i

(3) a - ii, b - iii, c - iv, d - i

(4) a - iii, b - iv, c - ii, d - i

76. Identify the operation performed by the below logic gate.



(1) AND

(2) XOR

(3) XNOR

(4) OR

77. Which of the following statements are true with respect to logic gates?

(a) AND gate is used to perform arithmetic multiplication.

(b) NAND gate is used to perform arithmetic multiplication.

(c) OR gate is used to perform arithmetic addition.

(d) NOR gate is used to perform arithmetic addition.

(1) (a), (b) and (c) are true

(2) (a) and (c) are true

(3) (b), (c) and (d) are true

(4) (b) and (d) are true

SPACE FOR ROUGH WORK

78. ಈ ಕೆಳಗಿನ ಯಾವ ಹೇಳಿಕೆಗಳು ಇನ್‌ಕ್ಯಾಟೋ ಮೋಡ್‌ನ ವೈಶಿಷ್ಟ್ಯವನ್ನು ಸರಿಯಾಗಿ ವಿವರಿಸುತ್ತದೆ ಎಂಬುದನ್ನು ನಿರ್ಧರಿಸಿ.

- (a) ಬ್ರೌಸಿಂಗ್ ಹಿಸ್ಟರಿಯನ್ನು ರೆಕಾರ್ಡ್ ಮಾಡುವುದಿಲ್ಲ.
 (b) ಒಂದೇ ಸಾಧನದಲ್ಲಿ ಬಹು ಲಾಗಿನ್‌ಗಳನ್ನು ಅನುಮತಿಸುತ್ತದೆ.
 (c) ವೈರಸ್‌ಗಳಿಂದ ಸಂರಕ್ಷಿಸುತ್ತದೆ.
 (d) IP ವಿಳಾಸವನ್ನು ಮರೆಮಾಚುತ್ತದೆ.

(1) (c) ಮತ್ತು (d) ಮಾತ್ರ

(2) (b), (c) ಮತ್ತು (d) ಮಾತ್ರ

(3) (a) ಮತ್ತು (b) ಮಾತ್ರ

(4) (a), (b), (c) ಮತ್ತು (d)

79. ಈ ಕೆಳಗಿನ ಪದಗಳಿಗೆ (ಪಟ್ಟಿ-I) ಅನುಗುಣವಾಗಿ ಅದಕ್ಕೆ ಸಂಬಂಧಿತ ಹೇಳಿಕೆಗಳನ್ನು (ಪಟ್ಟಿ-II) ಹೊಂದಿಸಿ ಬರೆಯಿರಿ.

- | ಪಟ್ಟಿ-I | ಪಟ್ಟಿ-II |
|----------------------------|--|
| (a) ಟ್ವಿಸ್ಟೆಡ್ ಪೇರ್ ವೈರ್ | (i) ಇದು ಸೆಂಟ್ರಲ್ ಕಾಪರ್ ವೈರ್ ಒಳಗೊಂಡಿದೆ. |
| (b) ಸ್ಯಾಟಲೈಟ್ ಕಮ್ಯುನಿಕೇಷನ್ | (ii) ಇದು ಹೆಚ್ಚಿನ ಪ್ರೀಕ್ಷೆನ್ನಿ ರೇಡಿಯೋ ಸಿಗ್ನಲ್‌ಗಳನ್ನು ಬಳಸುತ್ತದೆ. |
| (c) ಕೋ-ಆಕ್ಸಿಯಲ್ ಕೇಬಲ್ | (iii) ಇದು ಎರಡು ಬಂಟ್‌ಗಳಷ್ಟು ತೆಳುವಾದ ತಾಮ್ರದ ತಂತಿಗಳನ್ನು ಹೊಂದಿದೆ. |
| (d) ಮೈಕ್ರೋವೇವ್ ಸಿಸ್ಟಮ್ | (iv) ಇದು ಮೈಕ್ರೋವೇವ್ ರಿಲೇ ಸ್ಟೇಷನ್‌ಗಳನ್ನು ಬಳಸುತ್ತದೆ. |

ಸಂಕೇತಗಳು :

(1) a - ii, b - iv, c - i, d - iii

(2) a - iv, b - iii, c - i, d - ii

(3) a - iii, b - iv, c - i, d - ii

(4) a - iii, b - iv, c - ii, d - i

80. ಈ ಕೆಳಗಿನ ವಿವಿಧ ಟ್ರಾನ್ಸ್ಮಿಷನ್ ಮೀಡಿಯಾಗಳನ್ನು ಅವುಗಳ ವೇಗಕ್ಕೆ ಅನುಗುಣವಾಗಿ ಏರಿಕೆ ಕ್ರಮದಲ್ಲಿ ಬರೆಯಿರಿ.

- ಕೋ-ಆಕ್ಸಿಯಲ್ ಕೇಬಲ್, ರೇಡಿಯೋ ವೇವ್ಸ್, ಅನ್‌ಶೀಲ್ಡೆಡ್ ಟ್ವಿಸ್ಟೆಡ್ ಪೇರ್, ಫೈಬರ್ ಆಪ್ಟಿಕ್ ಕೇಬಲ್
- (1) ಕೋ-ಆಕ್ಸಿಯಲ್ ಕೇಬಲ್ → ಫೈಬರ್ ಆಪ್ಟಿಕ್ ಕೇಬಲ್ → ರೇಡಿಯೋ ವೇವ್ಸ್ → ಅನ್‌ಶೀಲ್ಡೆಡ್ ಟ್ವಿಸ್ಟೆಡ್ ಪೇರ್
 (2) ಫೈಬರ್ ಆಪ್ಟಿಕ್ ಕೇಬಲ್ → ರೇಡಿಯೋ ವೇವ್ಸ್ → ಕೋ-ಆಕ್ಸಿಯಲ್ ಕೇಬಲ್ → ಅನ್‌ಶೀಲ್ಡೆಡ್ ಟ್ವಿಸ್ಟೆಡ್ ಪೇರ್
 (3) ರೇಡಿಯೋ ವೇವ್ಸ್ → ಅನ್‌ಶೀಲ್ಡೆಡ್ ಟ್ವಿಸ್ಟೆಡ್ ಪೇರ್ → ಕೋ-ಆಕ್ಸಿಯಲ್ ಕೇಬಲ್ → ಫೈಬರ್ ಆಪ್ಟಿಕ್ ಕೇಬಲ್
 (4) ಅನ್‌ಶೀಲ್ಡೆಡ್ ಟ್ವಿಸ್ಟೆಡ್ ಪೇರ್ → ಕೋ-ಆಕ್ಸಿಯಲ್ ಕೇಬಲ್ → ರೇಡಿಯೋ ವೇವ್ಸ್ → ಫೈಬರ್ ಆಪ್ಟಿಕ್ ಕೇಬಲ್

ಕಚ್ಚಾ ಕೆಲಸಕ್ಕೆ ಸ್ಥಳ

78. Determine which of the following statements correctly describes a feature of incognito mode:

- (a) Does not record browsing history.
- (b) Allows multiple logins on one device.
- (c) Provides virus protection.
- (d) Hides IP address.

(1) (c) and (d) only (2) (b), (c) and (d) only

(3) (a) and (b) only (4) (a), (b), (c) and (d)

79. Match the following terms (List - I) with their respective statements (List - II).

List - I

- (a) Twisted pair wire
- (b) Satellite communication
- (c) Co-axial cable
- (d) Microwave system

List - II

- (i) It consists of a central copper wire.
- (ii) It uses very high frequency radio signals.
- (iii) It consists of two bunches of thin copper wires.
- (iv) It uses microwave relay stations.

Codes:

(1) a - ii, b - iv, c - i, d - iii

(2) a - iv, b - iii, c - i, d - ii

(3) a - iii, b - iv, c - i, d - ii

(4) a - iii, b - iv, c - ii, d - i

80. Arrange the following types of transmission media in the increasing order of their speed.

Co-axial Cable, Radio Waves, Unshielded Twisted Pair, Fiber Optic Cable.

(1) Co-axial Cable → Fiber Optic Cable → Radio Waves → Unshielded Twisted Pair

(2) Fiber Optic Cable → Radio Waves → Co-axial Cable → Unshielded Twisted Pair

(3) Radio Waves → Unshielded Twisted Pair → Co-axial Cable → Fiber Optic Cable

(4) Unshielded Twisted Pair → Co-axial Cable → Radio Waves → Fiber Optic Cable

SPACE FOR ROUGH WORK

81. ಕಂಪ್ಯೂಟರ್ ವೃತ್ತಿಪರರು ಬೈನರಿಗಾಗಿ ಯಾವ ಎರಡು ಸಂಖ್ಯಾ ವ್ಯವಸ್ಥೆಗಳನ್ನು ಶಾರ್ಟ್‌ಕಟ್ ಸಂಕೇತಗಳಾಗಿ ಹೆಚ್ಚಾಗಿ ಬಳಸುತ್ತಾರೆ?
- (a) ಆಕ್ಟಲ್
(b) ಡೆಸಿಮಲ್
(c) ಹೆಕ್ಸಾಡೆಸಿಮಲ್
- (1) (a) ಮತ್ತು (b) (2) (a) ಮತ್ತು (c)
(3) (b) ಮತ್ತು (c) (4) (a), (b) ಮತ್ತು (c)
82. ಸಾಫ್ಟ್‌ವೇರ್ ಇಂಜಿನಿಯರಿಂಗ್‌ನಲ್ಲಿ, ಸಿಸ್ಟಮ್‌ನ ಅವಶ್ಯಕತೆಗಳನ್ನು ಮತ್ತು ಅದರ ಪರಿಸರವನ್ನು ಅರ್ಥಮಾಡಿಕೊಳ್ಳುವ ಪ್ರಕ್ರಿಯೆ _____ ಆಗಿರುತ್ತದೆ.
- (1) ಫೀಸಿಬಿಲಿಟಿ ಅನಾಲಿಸಿಸ್
(2) ಸಿಸ್ಟಮ್ ಸ್ಟಡಿ
(3) ಸಿಸ್ಟಮ್ ಅನಾಲಿಸಿಸ್
(4) ರಿಕ್ವೇರ್‌ಮೆಂಟ್ ಸ್ಪೆಸಿಫಿಕೇಷನ್
83. ಯಾವ ಕಮಾಂಡ್ (Command) ಅನ್ನು ಫೈಲ್ ಪರ್ಮಿಷನ್ ಬದಲಾವಣೆ ಮಾಡಲು ಬಳಸುತ್ತಾರೆ?
- (1) ಅಟ್ರಿಬ್ (attrib) (2) ಎಫ್‌ಡಿಸ್ಕ್ (fdisk)
(3) ಛೇಂಜ್ (change) (4) ಮಾಡಿಫೈ (Modify)
84. ಹೊಂದಿಸಿ ಬರೆಯಿರಿ.
- | | |
|------------------------|------------------|
| ಪಟ್ಟಿ-I | ಪಟ್ಟಿ-II |
| (a) ಟ್ರೋಜನ್ | (i) ಜ್ಯಾಗೂ |
| (b) ಸ್ಪೈವೇರ್ | (ii) ಎಲ್‌ಕರ್ನ್ |
| (c) ರೆಸಿಡೆಂಟ್ ವೈರಸ್ | (iii) ಬೀಸ್ಟ್ |
| (d) ಪಾಲಿಮಾರ್ಫಿಕ್ ವೈರಸ್ | (iv) ರ್ಯಾಂಡೆಕ್ಸ್ |
- ಸಂಕೇತಗಳು :
- (1) a - iii, b - i, c - iv, d - ii (2) a - iv, b - i, c - ii, d - iii
(3) a - ii, b - iv, c - i, d - iii (4) a - iii, b - iv, c - i, d - ii

ಕಚ್ಚಾ ಕೆಲಸಕ್ಕೆ ಸ್ಥಳ

81. Which two number systems, computer professionals often use as short cut notations for binary?
- Octal
 - Decimal
 - Hexadecimal
- (a) and (b)
 - (a) and (c)
 - (b) and (c)
 - (a), (b) and (c)

82. In Software Engineering, _____ is the process of understanding the system requirement and its environment.
- Feasibility Analysis
 - System Study
 - System Analysis
 - Requirement Specification

83. The command used to change file permission is _____.
- attrib
 - fdisk
 - change
 - modify

84. Match the following:

List-I

- Trojan
- Spyware
- Resident virus
- Polymorphic virus

List-II

- Zango
- Elkern
- Beast
- Randex

Codes:

- a - iii, b - i, c - iv, d - ii
- a - ii, b - iv, c - i, d - iii

- a - iv, b - i, c - ii, d - iii
- a - iii, b - iv, c - i, d - ii

SPACE FOR ROUGH WORK

85. ಮಾಹಿತಿ ತಂತ್ರಜ್ಞಾನ ಕಾಯ್ದೆ 2000 ರ ಸೆಕ್ಷನ್ 66, ಈ ಕೆಳಗಿನ ಯಾವುದಕ್ಕೆ ಸಂಬಂಧಿಸಿದೆ?

- (1) ಅಶ್ಲೀಲ ಚಿತ್ರಗಳನ್ನು ಪ್ರದರ್ಶನ ಮಾಡುವುದು
- (2) ಹ್ಯಾಕಿಂಗ್
- (3) ಸ್ವಾಮಿಂಗ್
- (4) ಸೈಬರ್ ಭಯೋತ್ಪಾದನೆ

86. ಕಂಪೈಲರ್ ಅಥವಾ ಅಸೆಂಬ್ಲರ್‌ನಿಂದ ಹೊರಬರುವ ಆಬ್ಜೆಕ್ಟ್ ಪ್ರೋಗ್ರಾಂ ಅನ್ನು ತೆಗೆದುಕೊಂಡು, ಸದರಿ ಪ್ರೋಗ್ರಾಂಗಳನ್ನು ಎಕ್ಸಿಕ್ಯೂಶನ್‌ಗೆ ತಯಾರು ಮಾಡುವ ಸಿಸ್ಟಮ್ ಸಾಫ್ಟ್‌ವೇರ್ ಅನ್ನು _____ ಎಂದು ಕರೆಯುತ್ತಾರೆ.

- (1) ಕಂಪೈಲರ್
- (2) ಲಿಂಕರ್
- (3) ಲೋಡರ್
- (4) ಅಸೆಂಬ್ಲರ್

87. ಪ್ರಾಕ್ಸಿ ಸರ್ವರ್ ಕುರಿತಾಗಿ ಕೆಳಗಿನ ಯಾವ ಹೇಳಿಕೆಗಳು ಸರಿ/ತಪ್ಪು ಎಂದು ತಿಳಿಸಿರಿ.

- (a) ಪ್ರಾಕ್ಸಿ ಸರ್ವರ್, ಕ್ಲೈಂಟ್ ಐಪಿ (IP) ವಿಳಾಸವನ್ನು ಬಾಹ್ಯ ಸರ್ವರ್‌ನಿಂದ ಮರೆಮಾಡುತ್ತದೆ.
- (b) ಪ್ರಾಕ್ಸಿ ಸರ್ವರ್ ಸಂಪೂರ್ಣ ನೆಟ್‌ವರ್ಕ್ ಭದ್ರತೆಯನ್ನು ಒದಗಿಸುತ್ತದೆ.
- (c) ಪ್ರಾಕ್ಸಿ ಸರ್ವರ್ ಮತ್ತು VPNಗಳು ಎರಡೂ ಒಂದೇಯಾಗಿವೆ.
- (d) ಪ್ರಾಕ್ಸಿ ಸರ್ವರ್ ಕ್ಯಾಶಿಂಗ್ ಮೂಲಕ ಕಾರ್ಯಕ್ಷಮತೆಯನ್ನು ಸುಧಾರಿಸುತ್ತದೆ.

- (1) (a) ಸರಿ, (b) ತಪ್ಪು, (c) ತಪ್ಪು, (d) ತಪ್ಪು
- (2) (a) ಸರಿ, (b) ತಪ್ಪು, (c) ತಪ್ಪು, (d) ಸರಿ
- (3) (a) ತಪ್ಪು, (b) ಸರಿ, (c) ಸರಿ, (d) ತಪ್ಪು
- (4) (a) ತಪ್ಪು, (b) ಸರಿ, (c) ತಪ್ಪು, (d) ಸರಿ

ಕಚ್ಚಾ ಕೆಲಸಕ್ಕೆ ಸ್ಥಳ

85. Section 66 of the IT act 2000 deals with
- (1) Posting of obscene pictures
 - (2) Hacking
 - (3) Spamming
 - (4) Cyber terrorism
86. _____ is a system software which accepts the object program produced by the compiler or assembler and prepares their programs for execution.
- (1) Compiler
 - (2) Linker
 - (3) Loader
 - (4) Assembler
87. Which of the following statements are true or false about proxy server?
- (a) Proxy servers hide client's IP address from external server.
 - (b) Proxy server provides full network security.
 - (c) Proxy server and VPN are same.
 - (d) Proxy server improves performance through caching.
- (1) (a) True, (b) False, (c) False, (d) False
 - (2) (a) True, (b) False, (c) False, (d) True
 - (3) (a) False, (b) True, (c) True, (d) False
 - (4) (a) False, (b) True, (c) False, (d) True

SPACE FOR ROUGH WORK

88. ಹೊಂದಿಸಿ ಸರಿಯಾದ ಆಯ್ಕೆಯನ್ನು ಗುರುತಿಸಿ.

- | ಪಟ್ಟಿ-I | ಪಟ್ಟಿ-II |
|------------------|--|
| (i) ಟಿಸಿಪಿ | (a) ರಿಮೋಟ್ ಸಿಸ್ಟಮ್‌ಗಳಲ್ಲಿ ಲಾಗ್‌ಇನ್‌ಗಳನ್ನು ಹೊಂದಿರುವ ಜನರು ಬಳಸುವ ಪ್ರೋಟೋಕಾಲ್ |
| (ii) ಎಸ್‌ಎಸ್‌ಎಚ್ | (b) ಪೈಲ್‌ಗಳನ್ನು ಒಂದು ಹೋಸ್ಟ್‌ನಿಂದ ಇನ್ನೊಂದಕ್ಕೆ ವರ್ಗಾಯಿಸಲು ಬಳಸುವ ಪ್ರೋಟೋಕಾಲ್ |
| (iii) ಎಫ್‌ಟಿಪಿ | (c) ನೆಟ್‌ವರ್ಕ್‌ಗಳ ಮೂಲಕ ಡೇಟಾ ಮತ್ತು ಸಂದೇಶಗಳನ್ನು ತಲುಪಿಸಲು ಬಳಸುವ ಸ್ಟಾಂಡರ್ಡ್ ಕಮ್ಯುನಿಕೇಷನ್ ಪ್ರೋಟೋಕಾಲ್ |
| (iv) ಟೆಲ್‌ನೆಟ್ | (d) ಅಸುರಕ್ಷಿತ ನೆಟ್‌ವರ್ಕ್‌ನಲ್ಲಿ ಎರಡು ಹೋಸ್ಟ್‌ಗಳ ನಡುವೆ ಸುರಕ್ಷಿತ ಎನ್‌ಕ್ರಿಪ್ಟೆಡ್ ಸಂಪರ್ಕವನ್ನು ಒದಗಿಸುವ ಪ್ರೋಟೋಕಾಲ್ |

ಸಂಕೇತಗಳು :

- (1) i - b, ii - d, iii - c, iv - a
- (2) i - c, ii - d, iii - b, iv - a
- (3) i - d, ii - c, iii - a, iv - b
- (4) i - b, ii - d, iii - a, iv - c

89. ಈ ಯಾವ ಚಿಹ್ನೆಯನ್ನು ಗೂಗಲ್ ಶೀಟ್‌ನ ಫಾರ್ಮುಲಾದಲ್ಲಿ ಆಬ್ಸೊಲ್ಯೂಟ್ ರೆಫರೆನ್ಸ್‌ಗೆ ಬಳಸಲಾಗುತ್ತದೆ?

- (1) ಅಂಡರ್ ಸ್ಕೋರ್ (_)
- (2) ಡಾಲರ್ (\$)
- (3) ಈಕ್ವಲ್ (=)
- (4) ಕೋಲನ್ (:)

90. ಮೂಲ ಪ್ಲೇನ್ ಟೆಕ್ ಅನ್ನು ಉತ್ಪಾದಿಸಲು ಡಿಕ್ರಿಪ್ಟನ್ ಅಲ್ಗಾರಿದಮ್ _____ ಮತ್ತು _____ ಅನ್ನು ಸ್ವೀಕರಿಸುತ್ತದೆ.

- (1) ಪ್ಲೇನ್‌ಟೆಕ್ ಆಂಡ್ ಪ್ರೈವೇಟ್ ಕೀ
- (2) ಸೈಫರ್‌ಟೆಕ್ ಆಂಡ್ ಮ್ಯಾಚಿಂಗ್ ಕೀ
- (3) ಪ್ಲೇನ್‌ಟೆಕ್ ಆಂಡ್ ಪಬ್ಲಿಕ್ ಕೀ
- (4) ಸೈಫರ್‌ಟೆಕ್ ಆಂಡ್ ಪಬ್ಲಿಕ್ ಕೀ

ಕಚ್ಚಾ ಕೆಲಸಕ್ಕೆ ಸ್ಥಳ

88. Match the following and select the correct option:

List-I	List-II
(i) TCP	(a) Protocol used by people who have logins in remote system
(ii) SSH	(b) Protocol used for transfer of files from one host to another
(iii) FTP	(c) A standard communication protocol for delivering data and messages through networks
(iv) TELNET	(d) A protocol that provides a secure encrypted connection between two hosts over an insecure network

Codes:

- (1) i - b, ii - d, iii - c, iv - a
- (2) i - c, ii - d, iii - b, iv - a
- (3) i - d, ii - c, iii - a, iv - b
- (4) i - b, ii - d, iii - a, iv - c

89. In Google Sheet, which sign is used in the formula for absolute reference?

- (1) Underscore (_)
- (2) Dollar (\$)
- (3) Equal (=)
- (4) Colon (:)

90. Decryption algorithm accepts _____ and _____ to produce the original plain text.

- (1) Plaintext, private key
- (2) Ciphertext, matching key
- (3) Plaintext, public key
- (4) Ciphertext, public key

SPACE FOR ROUGH WORK

91. ಈ ಕೆಳಗಿನ ಕಂಪ್ಯೂಟರ್ ಜನರೇಶನ್‌ಗಳನ್ನು (ಪಟ್ಟಿ-I) ಅವುಗಳ ಮೆಮೋರಿಗಳೊಂದಿಗೆ (ಪಟ್ಟಿ-II) ಹೊಂದಿಸಿ ಬರೆಯಿರಿ.

- | ಪಟ್ಟಿ-I | ಪಟ್ಟಿ-II |
|---------|--|
| (a) I | (i) ಮ್ಯಾಗ್ನೆಟಿಕ್ ಕೋರ್ |
| (b) II | (ii) ಸಿಲಿಕಾನ್ ರ್ಯಾಮ್ |
| (c) III | (iii) ಮ್ಯಾಗ್ನೆಟಿಕ್ ಡ್ರಮ್ ಮತ್ತು ಮ್ಯಾಗ್ನೆಟಿಕ್ ಟೇಪ್ |
| (d) IV | (iv) ಸೆಮಿಕಂಡಕ್ಟರ್ |

ಸಂಕೇತಗಳು :

- | | |
|------------------------------------|------------------------------------|
| (1) a - iv, b - ii, c - iii, d - i | (2) a - iii, b - i, c - iv, d - ii |
| (3) a - i, b - iii, c - ii, d - iv | (4) a - ii, b - iv, c - i, d - iii |

92. ಸೂಪರ್ ಕಂಪ್ಯೂಟರ್‌ಗಳ ಹೆಸರುಗಳಿಗೆ ಸಂಬಂಧಿಸಿದಂತೆ ಈ ಕೆಳಗಿನವುಗಳಲ್ಲಿ ಯಾವುದು ಸರಿಯಾಗಿದೆ?

- (a) ಫಿಟಾನ್
(b) ಸಮ್ಮಿಟ್
(c) ಟ್ರಿನಿಟಿ
(d) ಸಿಯಾ

- | | |
|----------------------------------|---------------------------------------|
| (1) (a), (b) ಮತ್ತು (c) ಸರಿಯಾಗಿವೆ | (2) (a) ಮತ್ತು (b) ಸರಿಯಾಗಿವೆ |
| (3) (a) ಮತ್ತು (c) ಸರಿಯಾಗಿವೆ | (4) (a), (b), (c) ಮತ್ತು (d) ಸರಿಯಾಗಿವೆ |

93. ಪ್ರೊಡಕ್ಟಿವಿಟಿ ಟೂಲ್ಸ್‌ನ ಕಾರ್ಯಗಳಿಗೆ ಸಂಬಂಧಿಸಿದಂತೆ ಹೊಂದಿಸಿ ಬರೆಯಿರಿ.

- | ಪಟ್ಟಿ-I | ಪಟ್ಟಿ-II |
|----------------|--|
| (a) ಕ್ಲಾಕಿಫೈ | (i) ವಿಶುವಲ್ ಆರ್ಗನೈಜೇಷನ್ ಫಾರ್ ಮ್ಯಾನೇಜಿಂಗ್ ಪ್ರಾಜೆಕ್ಟ್ |
| (b) ಟ್ರೆಲ್ಲೊ | (ii) ಮೀಟಿಂಗ್‌ಗೆ ವಿಡಿಯೋ ಕಾನ್ಫರೆನ್ಸ್ ಮಾಡುವ ವೇದಿಕೆ. |
| (c) ಜೂಮ್ | (iii) ಟು-ಡು ಲಿಸ್ಟ್‌ನಲ್ಲಿ ಟೈಮ್ ಬ್ಲಾಕ್ ಮಾಡಲು ಸಹಾಯ ಮಾಡುತ್ತದೆ. |
| (d) ಕ್ಲಿಕ್‌ಅಪ್ | (iv) ಫ್ರಿ ಟೈಮ್ ಟ್ರ್ಯಾಕರ್ ವಿಥ್ ರೋಬೋಸ್ಟ್ ಫೀಚರ್ಸ್ |

ಸಂಕೇತಗಳು :

- | | |
|------------------------------------|------------------------------------|
| (1) a - i, b - iv, c - ii, d - iii | (2) a - iv, b - i, c - ii, d - iii |
| (3) a - iii, b - iv, c - ii, d - i | (4) a - ii, b - i, c - iii, d - iv |

ಕಚ್ಚಾ ಕೆಲಸಕ್ಕೆ ಸ್ಥಳ

91. Match the following computer generations (List - I) with memory type (List - II):

- List - I**
- (a) I
 - (b) II
 - (c) III
 - (d) IV

- List - II**
- (i) Magnetic core
 - (ii) Silicon RAM
 - (iii) Magnetic drum and magnetic tape
 - (iv) Semiconductor

Codes:

- (1) a - iv, b - ii, c - iii, d - i
- (2) a - iii, b - i, c - iv, d - ii
- (3) a - i, b - iii, c - ii, d - iv
- (4) a - ii, b - iv, c - i, d - iii

92. With respect to names of super computers, which of the following are true?

- (a) Fitan
- (b) Summit
- (c) Trinity
- (d) Sia

- (1) (a), (b) and (c) are true
- (2) (a) and (b) are true
- (3) (a) and (c) are true
- (4) (a), (b), (c) and (d) are true

93. Match the following with respect to the functionality of productivity tools:

- List - I**
- (a) Clockify
 - (b) Trello
 - (c) Zoom
 - (d) Clickup

- List - II**
- (i) Visual organization for managing project
 - (ii) Video conferencing platform for meeting
 - (iii) Support for to-do list time blocking
 - (iv) Free time tracker with robust features

Codes:

- (1) a - i, b - iv, c - ii, d - iii
- (2) a - iv, b - i, c - ii, d - iii
- (3) a - iii, b - iv, c - ii, d - i
- (4) a - ii, b - i, c - iii, d - iv

SPACE FOR ROUGH WORK

94. ಕಛೇರಿ ಕಾರ್ಯಕ್ಷೇತ್ರದಲ್ಲಿ ಕೀ ಪರ್ಫಾರ್ಮೆನ್ಸ್ ಇಂಡಿಕೇಟರ್ (KPI)ಗೆ _____ ಒಂದು ಉದಾಹರಣೆಯಾಗಿದೆ.

- (1) ಮೈಕ್ರೋಸಾಫ್ಟ್ ಎಕ್ಸೆಲ್
- (2) ಆಸಾನಾ
- (3) ಬಿಟ್ರಿಕ್ಸ್
- (4) ಪ್ರಾಫಿಟ್ ಮಾರ್ಜಿನ್

95. ಈ ಕೆಳಗಿನ ಎಂ.ಎಸ್.ವರ್ಡ್ ಶಾರ್ಟ್‌ಕಟ್ ಕೀಗಳನ್ನು ಅದರ ಕಾರ್ಯಗಳೊಂದಿಗೆ ಹೊಂದಿಸಿ ಬರೆಯಿರಿ.

ಪಟ್ಟಿ-I

- (a) ctrl + shift + >
- (b) ctrl + shift + F6
- (c) ctrl + 5
- (d) shift + F12

ಪಟ್ಟಿ-II

- (i) ಮತ್ತೊಂದು ತೆರೆದ ಎಂ.ಎಸ್.ವರ್ಡ್ ಡಾಕ್ಯುಮೆಂಟ್‌ಗೆ ಬದಲಾಯಿಸುತ್ತದೆ.
- (ii) 1.5 ಸಾಲಿನ ಅಂತರ
- (iii) ಆಯ್ಕೆ ಮಾಡಿದ ಪಠ್ಯದ ಗಾತ್ರವನ್ನು ಒಂದರಷ್ಟು ಹೆಚ್ಚಿಸುತ್ತದೆ.
- (iv) ತೆರೆದ ಡಾಕ್ಯುಮೆಂಟ್ ಅನ್ನು ಸೇವ್ ಮಾಡುವುದು

ಸಂಕೇತಗಳು :

- (1) a - i, b - iii, c - iv, d - ii
- (2) a - ii b - i, c - iii, d - iv
- (3) a - iii, b - i, c - ii, d - iv
- (4) a - iv, b - ii, c - iii, d - i

96. ಎಂ ಎಸ್ ಆಫೀಸ್ ಸಾಫ್ಟ್‌ವೇರ್‌ಗಳ ವಿಧಗಳನ್ನು ಅವುಗಳ ಉಪಯೋಗದೊಂದಿಗೆ ಹೊಂದಿಸಿ ಬರೆಯಿರಿ.

ಪಟ್ಟಿ-I

- (a) ಎಂ.ಎಸ್ - ಪಬ್ಲಿಷರ್
- (b) ಎಂ.ಎಸ್ - ಆಕ್ಸೆಸ್
- (c) ಎಂ.ಎಸ್ - ವಿಸಿಯೋ
- (d) ಎಂ.ಎಸ್ - ಪ್ರಾಂಟ್ ಪೇಜ್

ಪಟ್ಟಿ-II

- (i) ಎಚ್.ಟಿ.ಎಂ. ಎಲ್ ಪ್ರೋಗ್ರಾಮ್
- (ii) ಶೇಪಿಂಗ್ ಪ್ರೋಗ್ರಾಮ್
- (iii) ನ್ಯೂಸ್ ಪೇಪರ್ ಲೇಔಟ್
- (iv) ಡಾಟಾಬೇಸ್ ಪ್ರೋಗ್ರಾಮ್

ಸಂಕೇತಗಳು :

- (1) a - iii, b - iv, c - ii, d - i
- (2) a - ii, b - iii, c - iv, d - i
- (3) a - iii, b - i, c - iv, d - ii
- (4) a - iv, b - iii, c - i, d - ii

ಕಚ್ಚಾ ಕೆಲಸಕ್ಕೆ ಸ್ಥಳ

94. _____ is an example for Key Performance Indicator (KPI) in office workplace.

- (1) Microsoft Excel
- (2) Aasana
- (3) Bitrix
- (4) Profit Margin

95. Match the MS-Word shortcut keys with their Description:

List - I

- (a) ctrl + shift + >
- (b) ctrl + shift + F6
- (c) ctrl + 5
- (d) shift + F12

List - II

- (i) Switches to another open MS-Word document
- (ii) 1.5 line spacing
- (iii) Increases the selected text size by one
- (iv) Save the open document

Codes:

- (1) a - i, b - iii, c - iv, d - ii
- (2) a - ii, b - i, c - iii, d - iv
- (3) a - iii, b - i, c - ii, d - iv
- (4) a - iv, b - ii, c - iii, d - i

96. Match the type of MS-Office Software with their use:

List - I

- (a) MS - Publisher
- (b) MS - Access
- (c) MS - Visio
- (d) MS - Front Page

List - II

- (i) HTML Program
- (ii) Shaping Program
- (iii) Newspaper Layouts
- (iv) Database Program

Codes:

- (1) a - iii, b - iv, c - ii, d - i
- (2) a - ii, b - iii, c - iv, d - i
- (3) a - iii, b - i, c - iv, d - ii
- (4) a - iv, b - iii, c - i, d - ii

SPACE FOR ROUGH WORK

97. ಎಂ.ಎಸ್. ವರ್ಡ್‌ನಲ್ಲಿ ಪಠ್ಯವನ್ನು/ಚಿತ್ರವನ್ನು ಒಂದು ಸ್ಥಳದಿಂದ ಮತ್ತೊಂದು ಸ್ಥಳಕ್ಕೆ ಮೌಸ್ ಮುಖಾಂತರ ಸ್ಥಳಾಂತರಿಸುವ ಹಂತಗಳನ್ನು ಕ್ರಮದಲ್ಲಿ ಜೋಡಿಸಿ.

ಹೋಲ್ಡ್, ಕ್ಲಿಕ್, ಡ್ರ್ಯಾಗ್, ಡ್ರಾಪ್

(1) ಹೋಲ್ಡ್ → ಕ್ಲಿಕ್ → ಡ್ರ್ಯಾಗ್ → ಡ್ರಾಪ್

(2) ಡ್ರ್ಯಾಗ್ → ಹೋಲ್ಡ್ → ಕ್ಲಿಕ್ → ಡ್ರಾಪ್

(3) ಕ್ಲಿಕ್ → ಡ್ರ್ಯಾಗ್ → ಹೋಲ್ಡ್ → ಡ್ರಾಪ್

(4) ಕ್ಲಿಕ್ → ಹೋಲ್ಡ್ → ಡ್ರ್ಯಾಗ್ → ಡ್ರಾಪ್

98. ಎಂ ಎಸ್ ಪವರ್ ಪಾಯಿಂಟ್‌ಗೆ ಸಂಬಂಧಿಸಿದಂತೆ ಈ ಕೆಳಗಿನ ಯಾವ ಹೇಳಿಕೆಗಳು ಸರಿಯಾಗಿವೆ?

(a) ಚಿತ್ರಗಳಿಗಾಗಿ ಕ್ಲಿಪ್‌ಆರ್ಟ್ ಬಳಸಬಹುದು.

(b) ಚಲನೆಗೆ ಅನಿಮೇಷನ್ ಬಳಸಬಹುದು.

(c) ಕಾರ್ಯಗಳನ್ನು ನಿರ್ವಹಿಸಲು ಯಾಂತ್ರಿಕರಣವನ್ನು ಬಳಸಬಹುದು.

(d) ಧ್ವನಿ ಪರಿಣಾಮಗಳನ್ನು ಶಬ್ದಗಳಿಗೆ ಬಳಸಬಹುದು.

(1) (a) ಮತ್ತು (b) ಸರಿಯಾಗಿವೆ

(2) (a) ಮತ್ತು (c) ಸರಿಯಾಗಿವೆ

(3) (a), (b) ಮತ್ತು (d) ಸರಿಯಾಗಿವೆ

(4) (a), (b), (c) ಮತ್ತು (d) ಸರಿಯಾಗಿವೆ

99. ಕಾರ್ಯಕ್ಷಮತೆಗೆ ಸಂಬಂಧಿಸಿದಂತೆ ಈ ಕೆಳಗಿನ ಹೇಳಿಕೆಗಳಲ್ಲಿ ಯಾವುದು ಸರಿ, ಯಾವುದು ತಪ್ಪು ಎಂದು ಗುರುತಿಸಿ.

(a) BIOS ನಿಧಾನವಾದ ಬೂಟ್ ಸಮಯ ಮತ್ತು ಸೀಮಿತ ಹಾರ್ಡ್‌ವೇರ್ ಬೆಂಬಲವನ್ನು ಹೊಂದಿದೆ.

(b) UEFI ವೇಗವಾದ ಬೂಟ್ ಸಮಯವನ್ನು ಹೊಂದಿದೆ ಮತ್ತು ಆಧುನಿಕ ಹಾರ್ಡ್‌ವೇರ್‌ಗಳಿಗೆ ಅತ್ಯುತ್ತಮವಾಗಿದೆ.

(1) (a) ಸರಿ, (b) ತಪ್ಪು

(2) (a) ತಪ್ಪು, (b) ಸರಿ

(3) (a) ಸರಿ, (b) ಸರಿ

(4) (a) ತಪ್ಪು, (b) ತಪ್ಪು

100. ಹೊಂದಿಸಿ ಬರೆಯಿರಿ.

ಪಟ್ಟಿ-I

(a) ಇಂಪ್ಯಾಕ್ಟ್ ಪ್ರಿಂಟರ್

(b) ನಾನ್ ಇಂಪ್ಯಾಕ್ಟ್ ಪ್ರಿಂಟರ್

(c) ಇನ್‌ಪುಟ್ ಸಾಧನ

ಪಟ್ಟಿ-II

(i) ಲೇಸರ್ ಪ್ರಿಂಟರ್

(ii) ಸ್ಕ್ಯಾನರ್

(iii) ಡಾಟ್ ಮ್ಯಾಟ್ರಿಕ್ಸ್ ಪ್ರಿಂಟರ್

ಸಂಕೇತಗಳು :

(1) a - i, b - iii, c - ii

(2) a - iii, b - i, c - ii

(3) a - ii, b - iii, c - i

(4) a - iii, b - ii, c - i

ಕಚ್ಚಾ ಕೆಲಸಕ್ಕೆ ಸ್ಥಳ

37. Arrange the following in the order followed for moving text / picture using mouse from one place to another in MS Word.

hold, click, drag, drop

- (1) hold → click → drag → drop
- (2) drag → hold → click → drop
- (3) click → drag → hold → drop
- (4) click → hold → drag → drop

98. With respect to MS-Power Point, which of the following sentences are true?

- (a) Clipart can be used for pictures.
- (b) Animation can be used for motion.
- (c) Automation can be used to perform tasks.
- (d) Sound effect can be used for sounds.

- (1) (a) and (b) are true.
- (2) (a) and (c) are true
- (3) (a), (b) and (d) are true
- (4) (a), (b), (c) and (d) are true

99. State whether the following statements are True or False with respect to performance.

- (a) BIOS has slower boot time and limited hardware support.
- (b) UEFI has faster boot time and is optimized for modern hardware.

- (1) (a) True, (b) False
- (2) (a) False, (b) True
- (3) (a) True, (b) True
- (4) (a) False, (b) False

100. Match the following:

List - I

- (a) Impact printer
- (b) Non-impact printer
- (c) Input device

List - II

- (i) LASER printer
- (ii) Scanner
- (iii) Dot matrix printer

Codes:

- (1) a - i, b - iii, c - ii
- (2) a - iii, b - i, c - ii
- (3) a - ii, b - iii, c - i
- (4) a - iii, b - ii, c - i

SPACE FOR ROUGH WORK